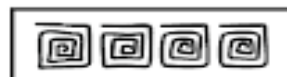




Aluno (a):


Nº

1. Observe as imagens de pinturas corporais indígenas que são utilizadas em dia de comemoração indígena. Continue reproduzindo:



2. Os quilombolas também tem suas festas e comemorações. Ache no caça palavras o nome de alguns instrumentos musicais utilizados por este povo.

BERIMBAU  
ATABAQUE  
CUÍÇA  
AFOXÉ  
AGOGÔ



A	W	C	I	C	A	D	E	M	T
F	K	A	T	A	B	A	Q	U	E
O	L	A	G	O	G	Ô	M	Z	U
X	O	L	A	G	O	P	I	L	Q
É	G	K	C	U	Í	C	A	J	F
S	K	Q	A	X	B	E	O	M	A
N	B	E	R	I	M	B	A	U	Z

3. No Brasil há várias festas regionais. Cite uma festa típica para cada região:

a) Região Norte: \_\_\_\_\_

b) Região Nordeste: \_\_\_\_\_

c) Região Centro-Oeste: \_\_\_\_\_

d) Região Sudeste: \_\_\_\_\_

e) Região Sul: \_\_\_\_\_

4. As festas regionais fazem parte do folclore brasileiro. Dentro do folclore brasileiro há muitas lendas e mitos. Ilustre uma lenda que você conhece ou ouviu falar: