

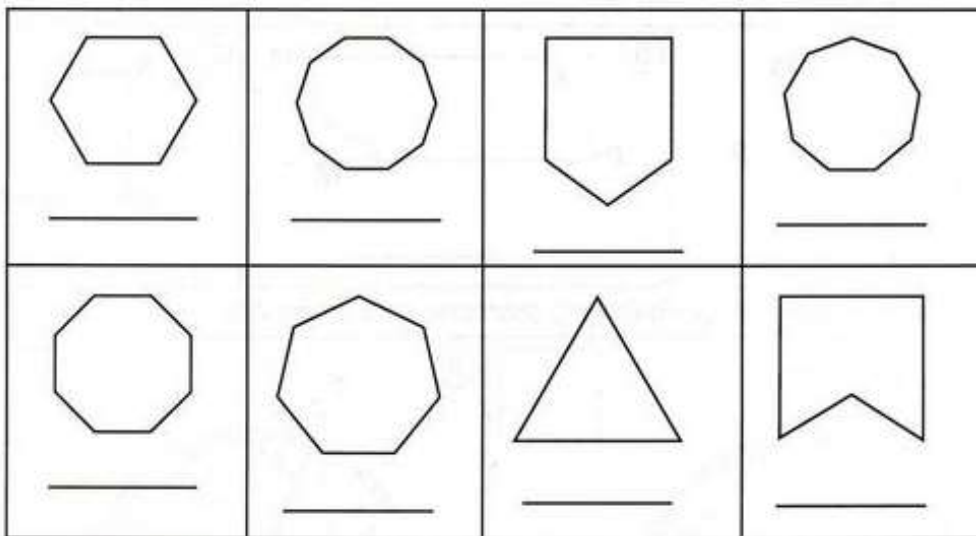
POLÍGONOS





Poli significa muitos e gonos significa ângulos.

Observe a tabela e escreva os nomes dos polígonos de acordo com o número de lados.

penta	hexa	hepta	octo	enea	deca
5 lados	6 lados	7 lados	8 lados	9 lados	10 lados

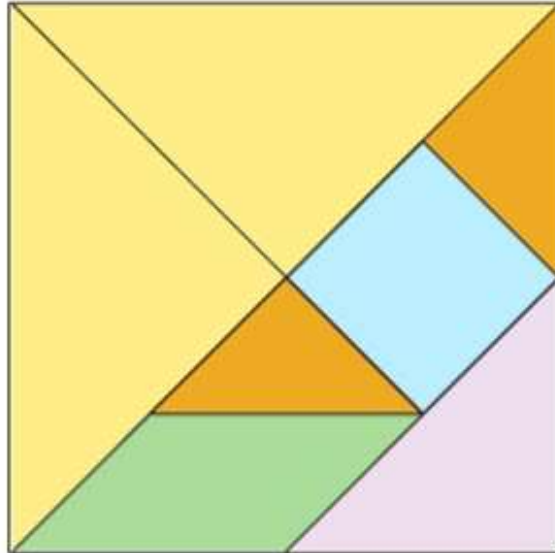


Contorne as figuras que não são polígonos.

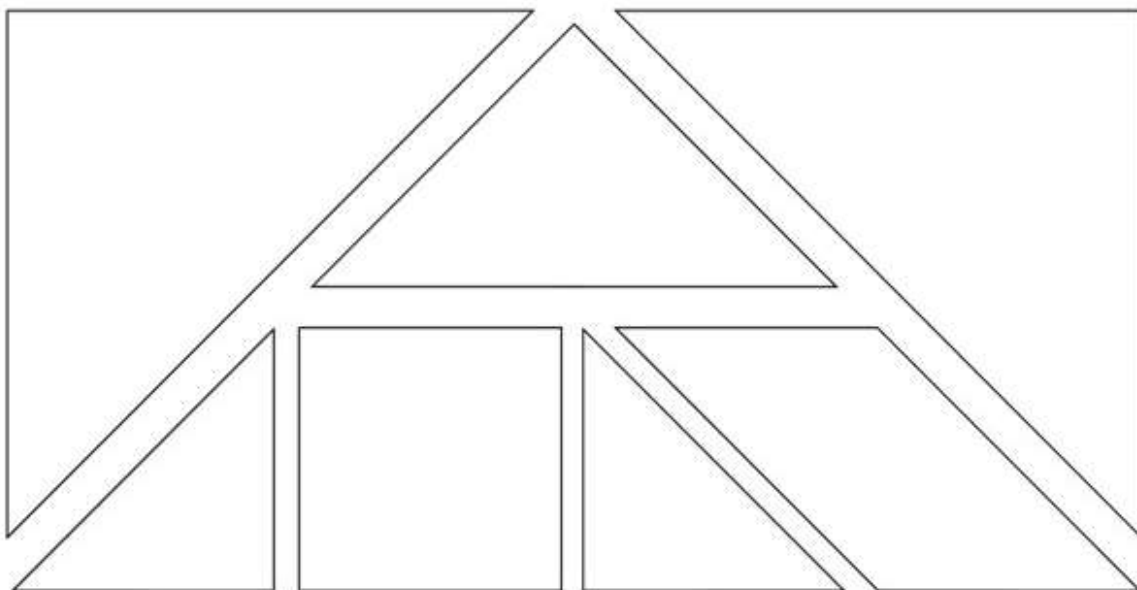


O Tangram é um jogo chinês formado por 7 peças.
Combinando essas peças de maneiras diferentes é
possível formar mais de 1 000 figuras!

Observe, abaixo, as formas das peças e as cores com que cada
uma foi pintada.

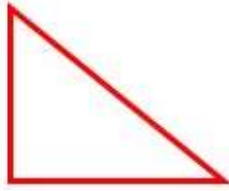


Agora, pinte as peças das figuras a seguir com as mesmas cores
das peças da figura acima.




Conte e anote quantos segmentos de reta compõem cada polígono abaixo. Em
seguida, escreva o nome de cada um.









Assinale com um X as figura que são polígonos.

