

Aluno (a):

Nº


Veja as figuras abaixo.



O losango é a figura

- A)1      B)2      C)3      D)4


Chegando a uma cidade, Fabiano visitou a igreja. De lá ele se dirigiu à pracinha, visitando em seguida o museu e o teatro, voltando para a igreja. Ao fazer o mapa do seu percurso, Fabiano descobriu que formava um quadrilátero .



O quadrilátero que representa o percurso de Fabiano é um:

- (A) QUADRADO      B) LOSANGO      C) TRAPÉZIO      D) RETÂNGULO


Juliana usou linhas retas fechadas para fazer este desenho.



Quantas figuras de quatro lados foram desenhadas?

- (A)1      (B)2      (C) 3      (D) 4

Observe as figuras abaixo.



O paralelogramo está marcado com a letra

- A) X  
B) Y  
C) Z  
D) K

Alene e suas amigas desenharam algumas figuras geométricas.



JOANA



ALINE

Quem fez o desenho de um retângulo?

( ) Joana ( ) Aline ( ) Viviane ( ) Júlia



VIVIANE



JÚLIA


Pinte apenas os quadriláteros.



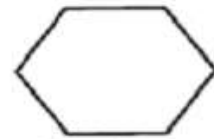
Retângulo



Triângulo

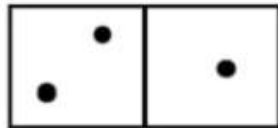


Trapézio



Hexágono

A face superior das peças de um jogo de dominó tem um formato de um quadrilátero.



Qual o quadrilátero que melhor representa a face superior da PEÇA de um jogo de dominó?

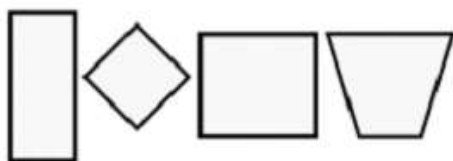
A) TRAPÉZIO B) QUADRADO C) RETÂNGULO D) LOSANGO

Esse formato do telhado lembra qual quadrilátero?



(A) retângulo (B) quadrado (C) losange (D) trapézio

Uma fábrica produz espelhos de vários formatos. Observe algumas peças.

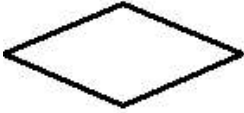


PINTE O PAR DE ESPELHO QUE POSSUI SEUS LADOS COM A MESMA MEDIDA. (OS 4 LADOS IGUAIS)

Ligue cada quadrilátero ao nome correspondente.



LOSANGO



RETÂNGULO

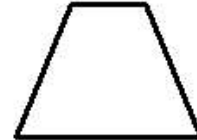
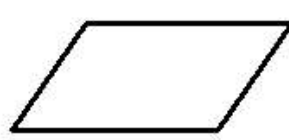
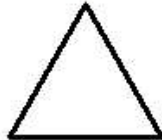



QUADRADO



TRAPEZIO

Pinte o paralelogramo nas figuras abaixo:




O quadrilátero da figura abaixo é um paralelogramo.

Qual é o nome desse paralelogramo?

\_\_\_\_\_



Pinte apenas os trapézios.



Circule os quadriláteros encontrados abaixo.

