

Aluno (a):

Nº

Associe corretamente.

(1) Trapézio

(2) Retângulo

(3) Paralelogramo



( )

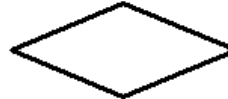


( )




( )

Pinte todos os trapézios.



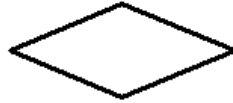
Veja as figuras abaixo e responda.



1



2



3



4

O losango é a figura \_\_\_\_\_

O paralelogramo é a figura \_\_\_\_\_

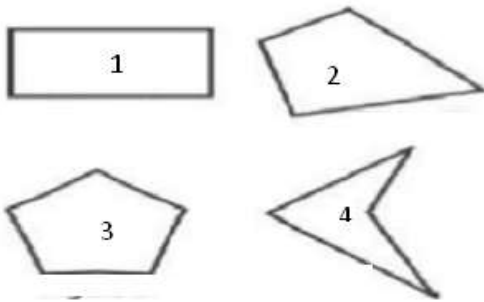
O retângulo é a figura \_\_\_\_\_

O quadrado é a figura \_\_\_\_\_

Complete a tabela.

FIGURA	NÚMERO DE LADOS

Observe as figuras abaixo.

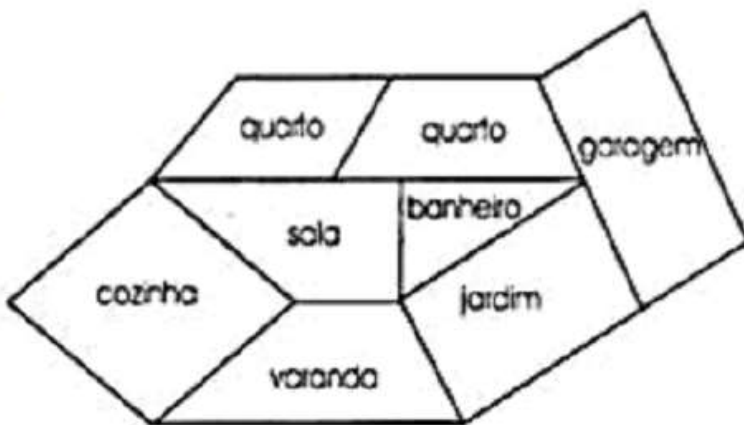


Quais dessas figuras são quadriláteros?

- ( ) 1      ( ) 2      ( ) 3      ( ) 4

João desenhou a planta de sua casa conforme a figura.

Pinte as partes que lembram um retângulo.

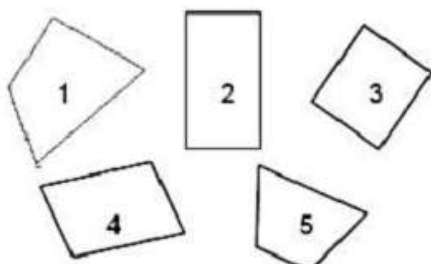


Qual formato tem uma quadra?



- A) TRAPÉZIO      B) CÍRCULO  
C) RETÂNGULO      D) TRIÂNGULO

Qual das figuras abaixo é um quadrado?



- A) 1    B) 2    C) 3    D) 4    E) 5