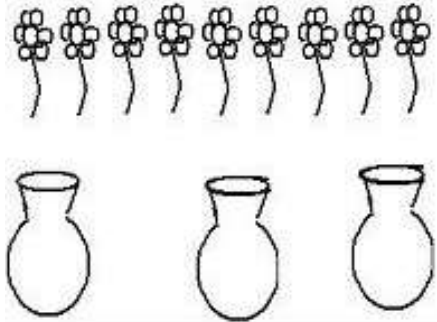

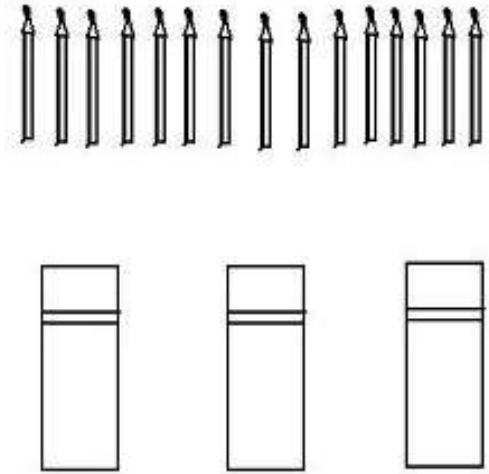
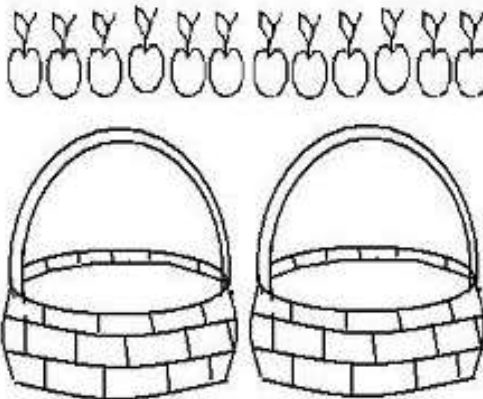


1- Resolva as divisões nos desenhos e números na operação.

$9 \div 3 = \underline{\quad}$ 	$8 \div 2 = \underline{\quad}$ 
$15 \div 3 = \underline{\quad}$ 	$12 \div 2 = \underline{\quad}$ 

2- Agora resolva a multiplicação e represente com desenhos:

$4 \times 3 = \underline{\quad}$

$2 \times 2 = \underline{\quad}$

$5 \times 3 = \underline{\quad}$

$4 \times 2 = \underline{\quad}$

Em casa:


1- Faça o que se pede:

A) Reparta em partes iguais 12 peixes em 4 aquários.




Em cada aquário haverá ____ peixes.

B) Reparta em partes iguais 25 balões entre 5 crianças.



Cada criança receberá ____ balões.

C) Reparta em partes iguais 20 cerejas em 4 tortas.



Em cada torta haverá ____ cerejas.

2- Resolva as multiplicações com desenhos:

$$7 \times 3 =$$

$$9 \times 2 =$$