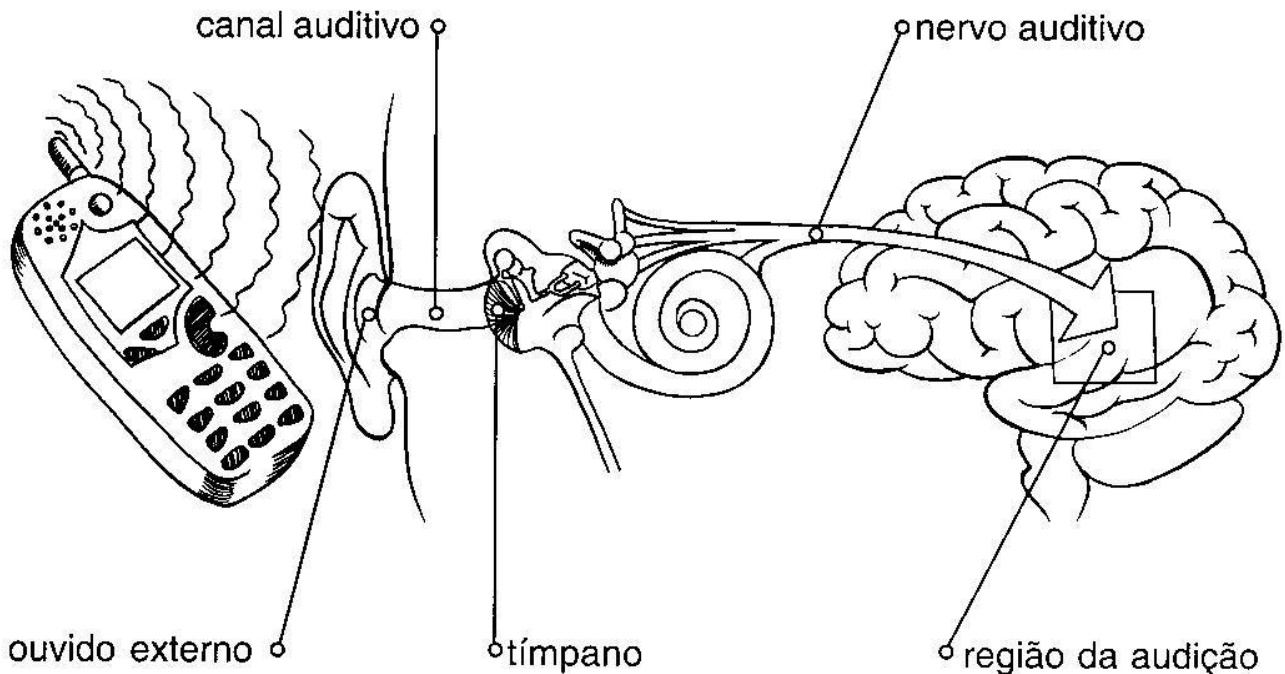


Como ouvimos

A audição é o sentido que nos permite ouvir.
O órgão da audição é o ouvido.



Ouvido externo: recebe o som.

Canal auditivo: leva o som do ouvido externo até o tímpano.

Tímpano: membrana que vibra com o som.

Nervo auditivo: transporta o som ao cérebro.


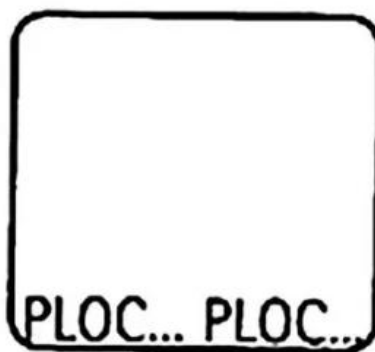
A região da audição, no cérebro, se localiza acima da orelha.

Encontre abaixo os nomes das partes que compõem o ouvido.

Y	O	R	E	L	H	A	F	W	V	E
R	Q	M	J	R	V	O	Q	Q	M	S
R	B	H	C	F	I	M	A	M	Z	T
T	I	M	P	A	N	O	Z	V	F	R
I	G	R	H	H	R	N	T	N	K	I
H	O	S	R	J	E	R	N	J	U	B
N	R	N	J	M	A	R	T	E	L	O
V	N	N	I	T	V	O	H	N	Y	F
Z	A	Q	T	R	T	N	J	Y	W	K



Agora você vai recortar as figuras que estão na última folha e colar aqui, de acordo com os barulhos que cada situação produz.



Vamos falar agora sobre os órgãos dos sentidos:

OS ÓRGÃOS DOS SENTIDOS SÃO GRANDES RESPONSÁVEIS PELAS DIFERENTES SENSações QUE EXPERIMENTAMOS. GRAÇAS A ELES PODEMOS **ENXERGAR, OUVIR, SENTIR O GOSTO E O CHEIRO DAS COISAS, TOCAR E SENTIR OBJETOS.**

ESSAS SENSações SE DÃO GRAÇAS À **VISÃO, A AUDIÇÃO, AO PALADAR, AO OLFATO E AO TATO.**

OS SENTIDOS NOS AJUDAM A PERCEBER TUDO O QUE ACONTECE À NOSSA VOLTA.



<https://realizati.com/2012/09/09/condi-1.html# sobre-os-orgaos-dos-sentidos/>

1) QUAIS OS ÓRGÃOS CORRESPONDENTES AOS SENTIDOS DESTACADOS NO TEXTO ACIMA? COMPLETE A TABELA A SEGUIR:

SENTIDOS	ÓRGÃOS
VISÃO	
AUDIÇÃO	
PALADAR	
OLFATO	
TATO	

2)- LEIA AS FRASES E MARQUE COM UM X A OPÇÃO CORRETA:

a) NOS PERMITE VER OS OBJETOS:

() NARIZ () OLHOS () LÍNGUA

b) ÓRGÃO DO TATO:

() OLHOS () ORELHAS () PELE

c) COM ELE PODEMOS SENTIR ODORES:

() NARIZ () OLHO () LÍNGUA

d) COM ESSE ÓRGÃO, PODEMOS SENTIR O GOSTO DAS COISAS:

() LÍNGUA () BOCA () LÁBIOS

e) NELA SE LOCALIZA O SENTIDO DA AUDIÇÃO:

() PELE () ORELHA () LÍNGUA

3) OBSERVE A IMAGEM E RESPONDA:



<http://www.usp.br/especiais/7materia-um-car-daplo-gordo-em-casa-e-na-tv>

QUAL PARTE DO CORPO AS CRIANÇAS ESTÃO UTILIZANDO PARA:

a) VER O PROGRAMA NA TELEVISÃO: _____

b) OUVIR O SOM DA TELEVISÃO: _____

c) SENTIR O CHEIRO DA COMIDA: _____

d) SENTIR A TEMPERATURA DO PRATO: _____

e) SENTIR O SABOR DA COMIDA: _____

4) LIGUE a coluna da direita com a da esquerda:

(1) VISÃO () NOS PERMITE SENTIR A TEMPERATURA.

(2) AUDIÇÃO () NOS PERMITE SENTIR OS CHEIROS.

(3) TATO () NOS PERMITE VER.

(4) OLFATO () NOS PERMITE OUVIR.

(5) PALADAR () NOS PERMITE SENTIR O SABOR.

5) OBSERVE AS FIGURAS QUE MOSTRAM HÁBITOS DE HIGIENE E FORME FRASES BEM CRIATIVAS:





