

DECOMPOSIÇÃO DOS NÚMEROS

1. Decomponha os numerais abaixo conforme o exemplo:

193	100	+	90	+	3
127		+		+	
152		+		+	
121		+		+	
165		+		+	
184		+		+	
139		+		+	
176		+		+	

2. Leia as questões e organize as informações no quadro de valor de lugar.

a) Rodrigo tem 1 centena, 4 dezenas e 3 unidades de doces.

C	D	U

b) Dona Maria vende bananas e ela tem 1 centena, 7 dezenas e 1 unidade de frutas para vender.

C	D	U

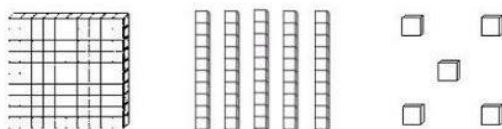
c) Joana ganhou 1 centena, 3 dezenas e 6 unidades de revistas.

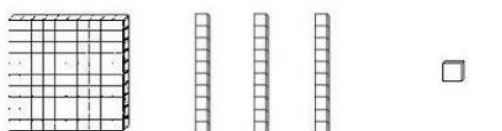
C	D	U


d) Antônio tem 1 centena e 9 dezenas de lápis de cor.


C	D	U

3. Complete:

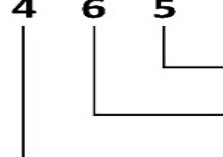

 ___ centena, ___ dezenas e ___ unidades
 Cento e _____ e _____

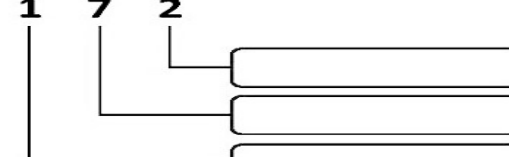

 ___ centena, ___ dezenas e ___ unidades
 Cento e _____ e _____

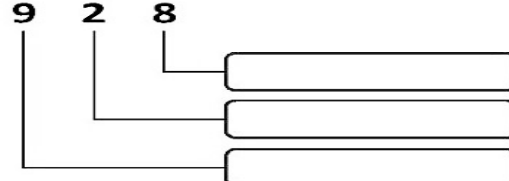

 ___ centena, ___ dezenas e ___ unidades
 Cento e _____ e _____

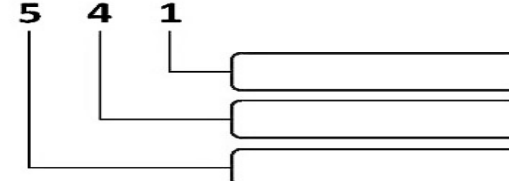

 ___ centena, ___ dezenas e ___ unidades
 Cento e _____ e _____

4. Observe o exemplo A e complete as situações B, C e D.

A. **4** **6** **5**

 5 unidades
 60 unidades
 400 unidades

B. **1** **7** **2**


C. **9** **2** **8**


D. **5** **4** **1**


5. Lia foi ao shopping comprar presentes para a mamãe. Observe o que ela comprou e resolva de acordo.

1 - Dentro desta caixa tem 3 pares de sapatos.
Quantas unidades são?

--	--



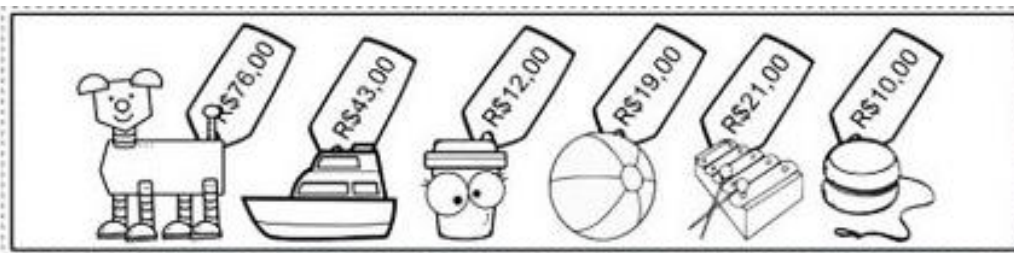
2 - Papai deu 90 reais para Noah comprar um vestido. O vestido custou 50 reais. Quanto sobrou?

D	U

3 - O vestido da mamãe tem 35 botões na parte de trás. Mas ao abrir o embrulho, alguns caíram e ficaram apenas 24. Quantos botões caíram?

D	U

6. Observe os preços dos brinquedos que cada criança comprou e realize as operações de acordo.



Laura

D	U

Rafael

D	U

Lívia

D	U

Samuel

D	U