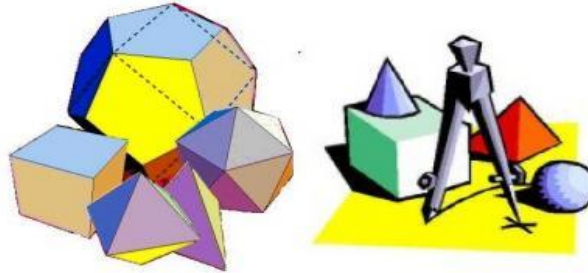
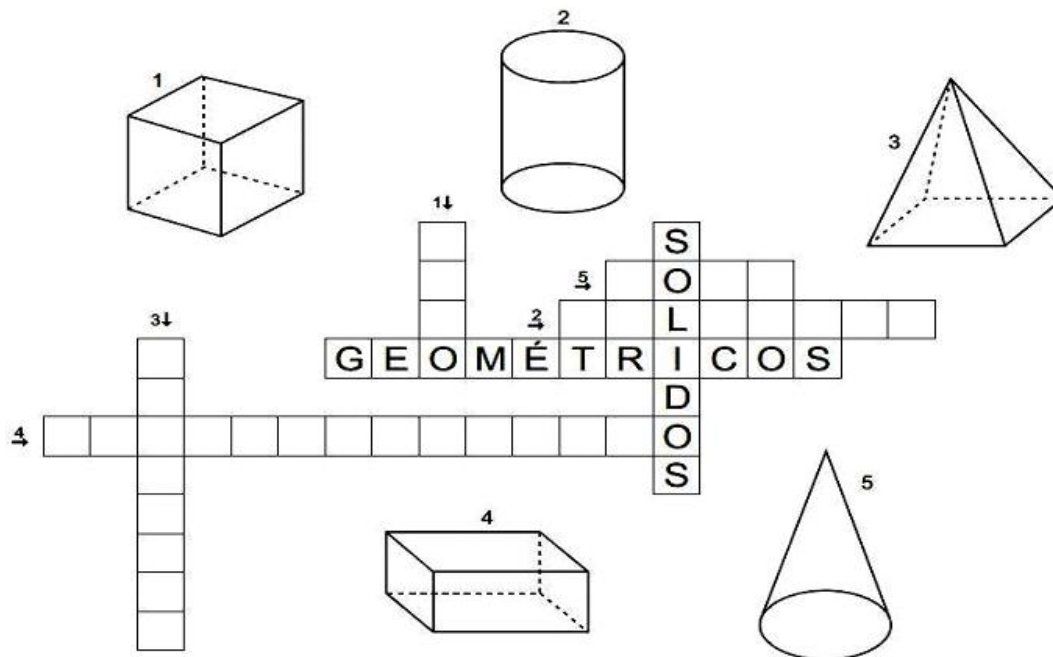


GEOMETRIA




Será apresentado slide e explicação sobre geometria, logo após iremos realizar esses exercícios.

Preencha a cruzadinha:



Para guardar seus objetos, Bia gosta de comprar caixas de formatos variados.




Bia quer escolher uma caixa com forma arredondada para guardar o chapéu. Qual é a caixa que ela deve escolher?

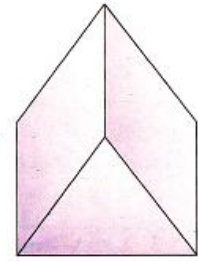
() 1 () 2 () 3 () 4

Observe:

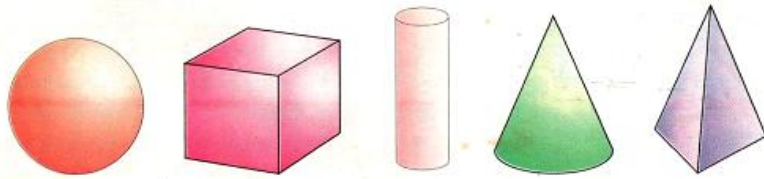
Este é o paralelepípedo.



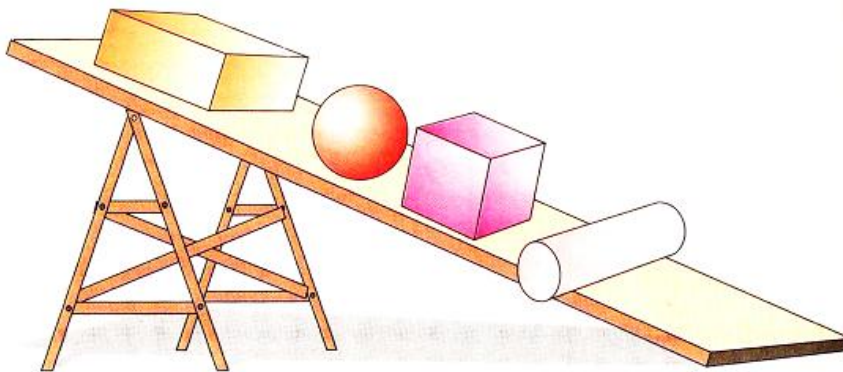
Este é o prisma.



A esfera, o cubo, o cilindro, o cone e a pirâmide, você já conhece.



Observe quais sólidos rolam e não rolam.



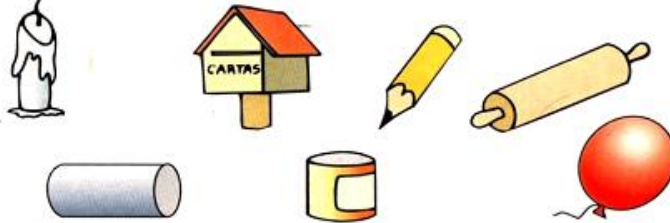
Complete a tabela, escrevendo o nome de cada sólido e marcando com um X a coluna "rola" ou "não rola":

nome do sólido	rola	não rola

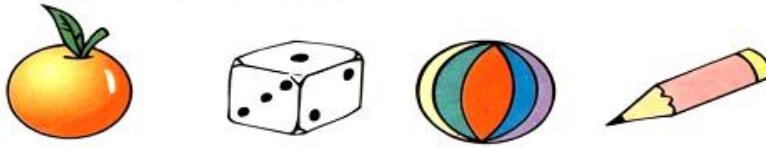
Pinte o desenho dos objetos que lembram a forma de um cone:




Risque o desenho dos objetos que lembram a forma de um cilindro:



Circule o desenho dos objetos que lembram a forma de uma esfera:



Marque um X nos desenhos que apresentam a forma de um cubo:



Marque com um X os objetos que têm a forma parecida com um cilindro.



Ligue cada objeto à forma que ele lembra:

