



Aluno (a):

Nº

1. Observe as cenas abaixo e use o lápis de cor amarelo para colorir os círculos das atividades que costumamos fazer durante o dia, com lápis de cor azul você vai colorir as atividades que realizamos à noite.



2. Analise o tempo cronológico nas imagens e responda:



- a) Relacione os números aos seus períodos:

( ) NOITE

( ) MANHÃ

( ) TARDE

3. O dia pode ser dividido em diferentes períodos. **MANHÃ, TARDE E NOITE.**



Observe as ilustrações acima. Depois, marque com um X a alternativa correta.

a) No período da manhã o menino.

( ) ACORDOU                      ( ) BRINCOU                      ( ) TOMOU BANHO

b) No período da tarde o menino:

( ) ESTUDOU                      ( ) ACORDOU                      ( ) ALMOÇOU

c) No período da noite o menino:

( ) ALMOÇOU                      ( ) FOI DORMIR                      ( ) TOMOU BANHO

4. Em que período do dia você realiza essas atividades:



MANHÃ.  
 TARDE.  
 NOITE.






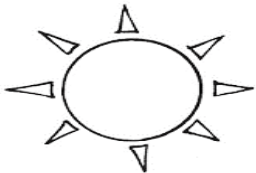


MANHÃ.  
 TARDE.  
 NOITE.



MANHÃ.  
 TARDE.  
 NOITE.

5. O que significam esses símbolos usados para indicar a previsão do tempo?

Escreva:

|   |   |   |
|---|---|---|
|  |  |  |
|   |   |   |
|  |  |  |
|   |   |   |

6. Pinte a figura que pertence ao grupo relacionado a previsão do tempo.

