


## NÚMEROS ORDINAIS

1º	PRIMEIRO	11º	DÉCIMO PRIMEIRO
2º	SEGUNDO	12º	DÉCIMO SEGUNDO
3º	TERCEIRO	13º	DÉCIMO TERCEIRO
4º	QUARTO	14º	DÉCIMO QUARTO
5º	QUINTO	15º	DÉCIMO QUINTO
6º	SEXTO	16º	DÉCIMO SEXTO
7º	SÉTIMO	17º	DÉCIMO SÉTIMO
8º	OITAVO	18º	DÉCIMO OITAVO
9º	NONO	19º	DÉCIMO NONO
10º	DÉCIMO	20º	VIGÉSIMO

1. Escreva os números ordinais em ordem crescente:

2. Identifique com o numeral ordinal, a posição em que a figura se encontra na sequência abaixo. Observe o modelo.



A) O sino é o **6º**.

D) O navio é o .


B) O  é o foguete.

E) O  é o coelhinho.


C) O  é o boné.

F) O  é o vaso.

3. Agora observe as cenas e numere-as com os números ordinais, de acordo com a sequência dos acontecimentos.



4. Pinte de azul o chapéu do 3º palhaço, de amarelo a gravata do 4º palhaço, de vermelho a flor do chapéu do 1º palhaço e de verde o nariz do 2º palhaço.



5. Pinte o décimo sino.



6. Pinte de amarelo o primeiro, o terceiro e o quinto patinho:

