
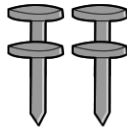
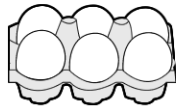


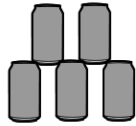


Aluno (a): _____

Nº _____

1. Faça um círculo nos conjuntos pares e um X nos conjuntos ímpares:



2. Escreva os números por extenso:

10 - _____

20 - _____

30 - _____

40 - _____

50 - _____

60 - _____

70 - _____

80 - _____

90 - _____

100 - _____

3. Resolva os probleminhas:

a)) Rute tem 85 bonecas, ela irá doar nas Olimpíadas Práxis 34 bonecas. Com quantas bonecas Rute ficará?

Sentença

Resposta: _____

Cálculo

C	D	U

b) Em um campo de futebol há duas torcidas, a torcida do time vermelho tem 235 pessoas, a torcida do time verde tem 152 pessoas. Qual o total de pessoas juntando as duas torcidas?

Sentença

Resposta: _____

Cálculo

C	D	U

4. Ditado colorido!!!

100	101	102	103	104	105	106	107	108	109
110	111	112	113	114	115	116	117	118	119
120	121	122	123	124	125	126	127	128	129
130	131	132	133	134	135	136	137	138	139
140	141	142	143	144	145	146	147	148	149
150	151	152	153	154	155	156	157	158	159
160	161	162	163	164	165	166	167	168	169
170	171	172	173	174	175	176	177	178	179
180	181	182	183	184	185	186	187	188	189
190	191	192	193	194	195	196	197	198	199