







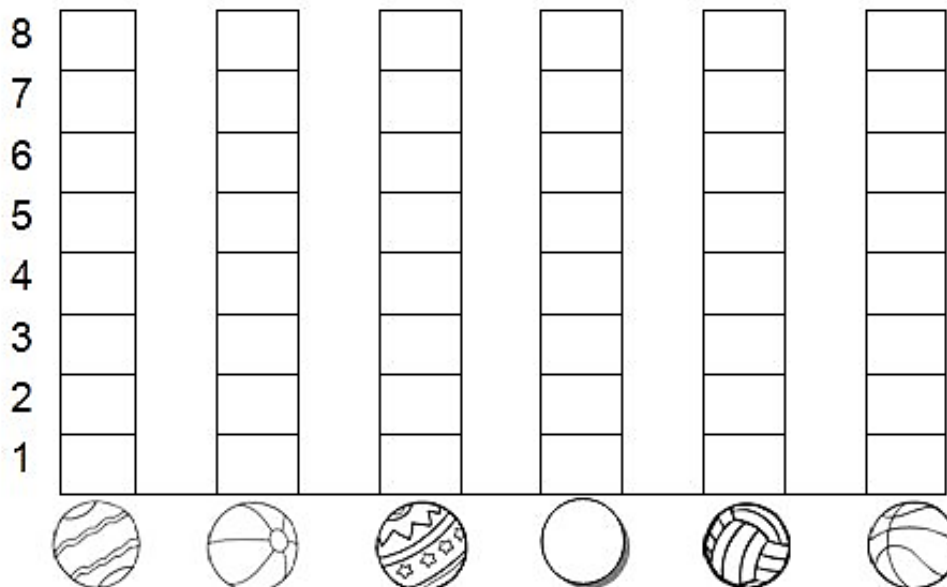
Aluno (a):

Nº


1. Preencha a tabela com a quantidade de bolas que cada criança acertou na cesta:

CRIANÇAS	QUANTIDADE DE BOLAS NA CESTA	NÚMERO
CARLOS		
FELIPE		
PEDRO		
GIOVANI		
VÍTOR		
FABIO		

2. Agora, você deverá colorir o gráfico com as informações da tabela que você acabou de completar:



3. Marque as horas nos relógios com os números romanos de 1 a 12:



4. Arme e efetue as continhas de adição e subtração:

$453 + 536 = \underline{\quad}$		
C	D	U

$310 + 289 = \underline{\quad}$		
C	D	U

$261 + 627 = \underline{\quad}$		
C	D	U

$286 - 73 = \underline{\quad}$		
C	D	U

$957 - 234 = \underline{\quad}$		
C	D	U

$523 - 143 = \underline{\quad}$		
C	D	U