

## MEDIDAS DE TEMPO

### A hora e o minuto


A hora e o minuto são unidades de medidas de tempo marcadas pelo relógio.

Por extenso	Abreviatura
hora	h
minuto	min

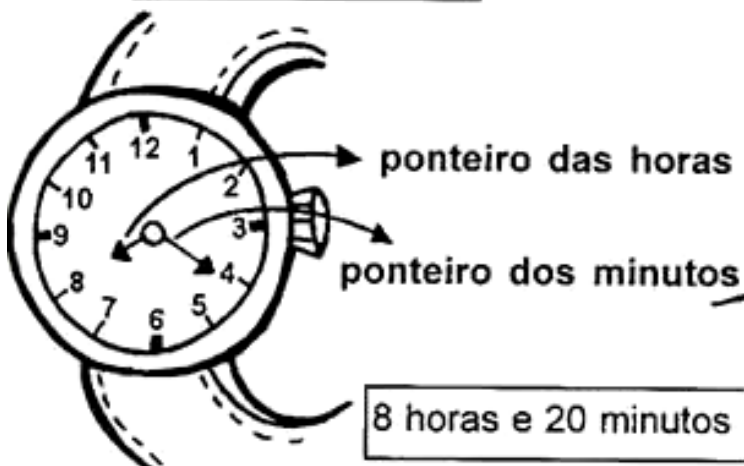
O dia se divide em 24 partes iguais.  
Cada parte corresponde a 1 hora.

A hora se divide em 60 partes iguais.  
Cada parte corresponde a 1 minuto.

O minuto se divide em 60 partes iguais.  
Cada parte corresponde a 1 segundo.



Relógio de ponteiro



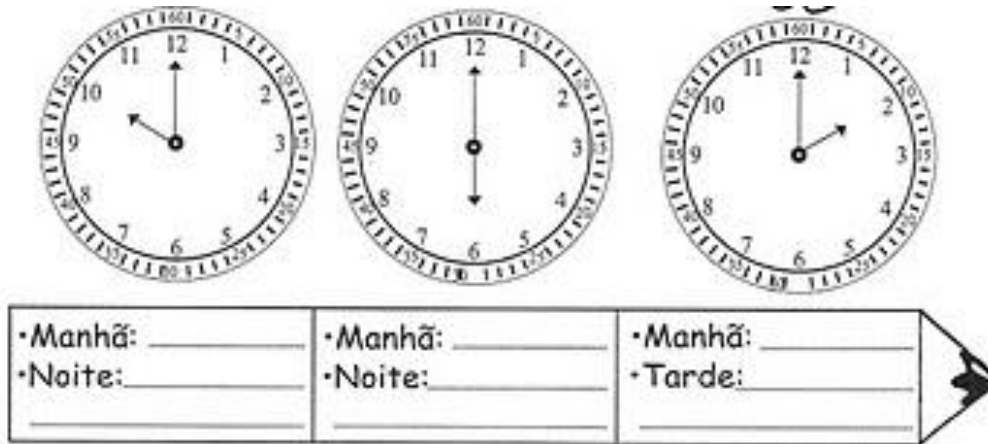
Relógio digital



1- Agora complete os espaços:

- Meia hora tem \_\_\_\_\_ minutos.
- 1 hora são \_\_\_\_\_ minutos.
- 60 minutos formam \_\_\_\_\_ hora.
- Um quarto de hora são \_\_\_\_\_ minutos.

2- Que horas marcam estes relógios?



3- Resolva o problema:









Saul vai para a escola às 7 horas e volta para casa às 11 horas. Quantas horas Saul fica na escola?

Cálculo:

Resposta: \_\_\_\_\_



4- Escreva nos relógios a hora correta de cada um.

# QUE HORAS?



5- Nós aprendemos que o ponteiro grande do relógio marca os minutos e o pequeno as horas correto?!

Então, agora complete com o ponteiro que falta para que as horas fiquem corretas de acordo com o relógio analógico que está abaixo de cada criança.



# SISTEMA MONETÁRIO

6 - Ligue cada nota de dinheiro ao seu valor correspondente e escreva a quantidade por extenso como no modelo.



R\$ 5,00

*Cinco reais*



R\$ 10,00



R\$ 2,00



R\$ 20,00



R\$ 50,00



R\$ 100,00

7-Observe os objetos abaixo, de acordo com a sua opinião, ligue cada um com o seu valor:



8- Complete com algumas informações sobre o nosso dinheiro:

a) Qual é o nome da nossa moeda?

\_\_\_\_\_

b) Qual símbolo que a representa?

\_\_\_\_\_

c) Onde pode ser encontrado o nosso dinheiro?









\_\_\_\_\_

9- Helena comprou uma boneca e deu uma nota de 50 reais para pagar. Quanto ela recebeu de troco?

32 reais

Helena recebeu de troco 18 reais.

Agora faça o mesmo completando o quadro abaixo:

 <p>12 reais</p>	 <p>20 reais</p>	-----
 <p>35 reais</p>	 <p>50 reais</p>	-----
 <p>8 reais</p>	 <p>10 reais</p>	-----
 <p>20 reais</p>	 <p>50 reais</p>	-----