


Aluno (a):

Nº

1- Pinte o que compramos por litro.



2- Circule o que compramos por litro:

óleo
leite
carne
tomate

álcool
açúcar
água
corda

tecido
vinagre
feijão
refrigerante



3- Resolva os problemas:

a) O carro de Gabriel só tem 10 litros de gasolina. Se o tanque cheio comporta 45 litros, de quantos litros ele vai precisar para completar o tanque?

Pra completar o tanque, ainda faltam _____ litros de gasolina.

b) Mamãe foi ao mercado e comprou: 3 litros de leite, 1 litro de suco e 2 litros de refrigerante. Quantos litros a mamãe comprou ao todo?

A mamãe comprou _____ litros ao todo.

4- Você sabe qual é o seu peso?
Eu peso _____ Kg.



5- Circule o que compramos por quilo:

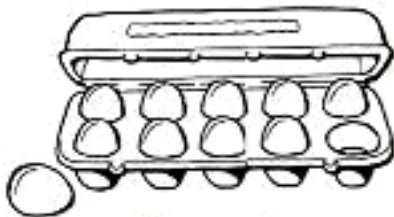

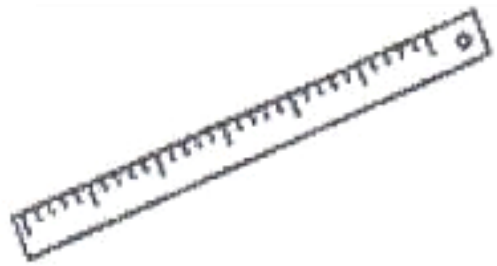


6- Maria Rita levou seus filhos: Ana Clara, 8 anos; Rodrigo, 11 anos; Mariana, 2 anos; e Luíz, 4 anos, ao médico para saber se eles estão se desenvolvendo e crescendo adequadamente para a idade. Observe a cena a seguir e responda:



- a) Qual a criança mais alta? _____
- b) Qual a criança mais baixa? _____
- c) Quem é mais alto, Luíz ou Mariana? _____
- d) E você, é mais alto (a) ou mais baixo (a) do que Rodrigo? _____
- e) Quando você nasceu, qual era a sua altura? _____
- f) Das pessoas de sua casa, quem tem a menor altura? _____

7- Observe os objetos abaixo e ligue nas medidas corretamente:



DÚZIA