

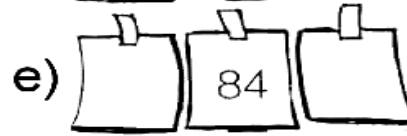
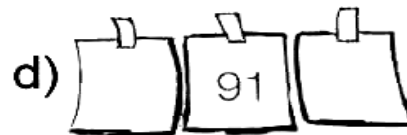
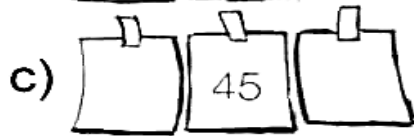
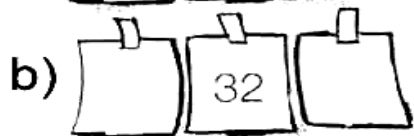

Aluno (a): _____

Nº _____

Pesquise e responda:

Desenhe sua rotina em 4 momentos:

2- Quem vem antes e quem vem depois



3- Marque **PA** para figuras do passado e **PRE** para figuras do presente.



4 – Um ano é dividido em 12 meses. Cada mês tem uma quantidade de dias. Pesquise e complete:

janeiro - _____ fevereiro - _____ março _____

abril - _____ maio - _____ junho - _____

julho - _____ agosto - _____ setembro - _____

outubro - _____ novembro - _____ dezembro - _____

5- Agora, preencha no calendário as semanas com os números referentes ao mês em que estamos e responda as perguntas abaixo:



Mês _____						
2.ª feira	3.ª feira	4.ª feira	5.ª feira	6.ª feira	Sábado	Domingo

Em que dia nós estamos? _____


Qual o dia da semana em que tivemos feriado nacional? _____

Quantas semanas têm este mês? _____

O primeiro dia do mês caiu em que dia da semana? _____

6- Explique o que é ano bissexto.

7 – Agora mostre que você sabe ler as horas: Coloque os ponteiros nos relógios analógicos, marcando as mesmas horas dos relógios digitais.



8 – Organize os horários na sua rotina:



Acordo às _____ horas.



Tomo café às _____ horas.



Brinco às _____ horas.



Vou para a escola às _____ horas.



Escovo os dentes às _____ horas.



Tomo banho às _____ horas.

Você percebeu que em nosso dia-a-dia temos hora para tudo?

9-Leia:

Lista de palavras e expressões que indicam TEMPO

- À noite
- À tarde
- Agora
- Amanhã
- Antes
- Antigamente
- Atualmente
- Certa vez
- De madrugada
- De manhã
- Depois
- Em breve
- Era uma vez
- Hoje
- Logo
- Naquela noite
- Nem sempre
- Numa tarde
- Nunca
- Ontem
- Segunda-feira
- Semana passada
- Sempre
- Todos os dias
- Um dia



3- Escolha três palavras e construa uma frase para cada um, demonstrando o sentido de tempo.

10 – Desenhe as quatro estações e escreva quando elas começam aqui em nosso país.

