

Aluno (a):

Nº

Em sala: Atividades

a)  $\frac{1}{4}$  de 20 =






b)  $\frac{2}{4}$  de 20 =

c)  $\frac{3}{4}$  de 20 =

d)  $\frac{4}{4}$  de 20 =

### Quadro Fracionário

♦ Preencha os quadros, observando as figuras de acordo com o modelo:

| A   | B   | C   | D  | E   |
|---|---|---|--|---|
|  |  |  |  |  |
| Figura  | Partes pintadas   | Total das partes  | Fração   | como se lê  |
| A   | 1   | 2   | $\frac{1}{2}$  | um meio   |
| B   |   |   |  |   |
| C   |   |   |  |   |
| D   |   |   |  |   |
| E   |   |   |  |   |