


A numeração romana é um sistema de numeração que usa letras maiúsculas, as quais são atribuídos valores.

Os algarismos romanos são usados principalmente:

- Em números de capítulos de uma obra;
- Na numeração das cenas de um teatro;
- Em nome de papas e imperadores;
- Em títulos de congressos, olimpíadas, assembleias...

### IMPORTANTE!!!

PODEMOS REPETIR OS ALGARISMOS ROMANOS  
SOMENTE TRÊS VEZES.



|          |           |             |
|----------|-----------|-------------|
| I = 1    | XX = 20   | CCC = 300   |
| II = 2   | XXX = 30  | CD = 400    |
| III = 3  | XL = 40   | D = 500     |
| IV = 4   | L = 50    | DC = 600    |
| V = 5    | LX = 60   | DCC = 700   |
| VI = 6   | LXX = 70  | DCCC = 800  |
| VII = 7  | LXXX = 80 | CM = 900    |
| VIII = 8 | XC = 90   | M = 1.000   |
| IX = 9   | C = 100   | MM = 2.000  |
| X = 10   | CC = 200  | MMM = 3.000 |

- Quando uma ou mais letras são escritas à **direita** de outra de maior valor, **somamos** esses valores.

Assim:

|          |       |               |
|----------|-------|---------------|
| VII =    | 7     | (5 + 2)       |
| LX =     | 60    | (50 + 10)     |
| LXXIII = | 73    | (50 + 20 + 3) |
| CX =     | 110   | (100 + 10)    |
| CXXX =   | 130   | (100 + 30)    |
| DC =     | 600   | (500 + 100)   |
| MCC =    | 1.200 | (1.000 + 200) |

- Quando as letras **I**, **X** e **C** são colocados à **esquerda** de outra de maior valor, seus valores são **subtraídos** desse outro valor.


Assim:

|      |     |               |
|------|-----|---------------|
| IV = | 4   | (5 - 1)       |
| IX = | 9   | (10 - 1)      |
| XL = | 40  | (50 - 10)     |
| XC = | 90  | (100 - 10)    |
| CD = | 400 | (500 - 100)   |
| CM = | 900 | (1.000 - 100) |



1. Escreva a sequência dos números romanos de 1 a 10, dentro dos círculos.


|   |   |   |   |   |
|---|---|---|---|---|
| ○ | → | ○ | → | ○ |
| ○ | → | ○ | → | ○ |
| ○ | → | ○ | → | ○ |
| ○ |   |   |   |   |




2. Vamos recordar as horas? Marque as horas conforme o período da manhã, da tarde e da noite:



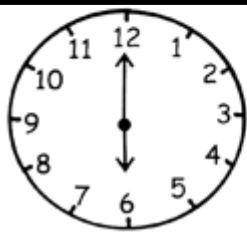
Manhã: \_\_\_\_\_  
Tarde: \_\_\_\_\_




Manhã: \_\_\_\_\_  
Noite: \_\_\_\_\_



Manhã: \_\_\_\_\_  
Noite: \_\_\_\_\_



Manhã: \_\_\_\_\_  
Tarde: \_\_\_\_\_



Manhã: \_\_\_\_\_  
Tarde: \_\_\_\_\_



Manhã: \_\_\_\_\_  
Noite: \_\_\_\_\_

3. Agora vamos fazer um ditado dos números bem divertido! Você vai gostar!

## DITADO COLORIDO

Pinte conforme as dicas da sua professora.

|     |     |     |     |     |     |     |     |     |     |
|-----|-----|-----|-----|-----|-----|-----|-----|-----|-----|
| 100 | 101 | 102 | 103 | 104 | 105 | 106 | 107 | 108 | 109 |
| 110 | 111 | 112 | 113 | 114 | 115 | 116 | 117 | 118 | 119 |
| 120 | 121 | 122 | 123 | 124 | 125 | 126 | 127 | 128 | 129 |
| 130 | 131 | 132 | 133 | 134 | 135 | 136 | 137 | 138 | 139 |
| 140 | 141 | 142 | 143 | 144 | 145 | 146 | 147 | 148 | 149 |
| 150 | 151 | 152 | 153 | 154 | 155 | 156 | 157 | 158 | 159 |
| 160 | 161 | 162 | 163 | 164 | 165 | 166 | 167 | 168 | 169 |
| 170 | 171 | 172 | 173 | 174 | 175 | 176 | 177 | 178 | 179 |
| 180 | 181 | 182 | 183 | 184 | 185 | 186 | 187 | 188 | 189 |
| 190 | 191 | 192 | 193 | 194 | 195 | 196 | 197 | 198 | 199 |