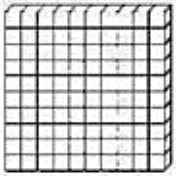




CENTENAS

Vimos até aqui, as unidades e as dezenas. Agora vamos aprender a casa das centenas.

Observe:

CENTENA	DEZENA	UNIDADE
		

1. Complete o quadro abaixo com as famílias das centenas. De 101 a 200:

101				105			108		110
	112				116			119	
			124			127			130
		133			136			139	
141				145		147			150
	152							159	
		163		165					
	171						178		
			184					189	
191					196				200

2. Conte, registre o número e pinte a alternativa correta:



QUANTIDADE:

PAR

ÍMPAR



QUANTIDADE:

PAR

ÍMPAR



QUANTIDADE:

PAR

ÍMPAR



QUANTIDADE:

PAR

ÍMPAR



QUANTIDADE:

PAR

ÍMPAR

3. Faça as continhas de adição e subtração com as centenas.

C	D	U
7	5	4
+ 1	3	4

C	D	U
8	7	5
- 6	5	5

C	D	U
2	2	2
+ 3	5	2

C	D	U
6	7	9
- 5	6	7

C	D	U
9	6	4
- 3	3	3

C	D	U
4	7	6
+ 3	1	2

C	D	U
7	0	5
+ 6	4	4

C	D	U
8	9	7
- 2	6	5

C	D	U
3	5	6
+ 3	3	2

4. Escreva o antecessor e o sucessor dos números abaixo:

_____ 100 _____

_____ 124 _____

_____ 188 _____

_____ 141 _____

_____ 107 _____

_____ 132 _____

_____ 120 _____

_____ 115 _____

_____ 173 _____

_____ 156 _____

5. Escreva as dezenas exatas por extenso:

10 - _____

60 - _____

20 - _____

70 - _____

30 - _____

80 - _____

40 - _____

90 - _____

50 - _____

100 - _____