










### MEDIDAS DE TEMPO (RELÓGIO)


- Livro – caderno 3 – p. 52 a 55.

Ler e fazer as atividades conforme a proposta do livro.

1. Quantas horas são:

 <input type="text"/>	 <input type="text"/>	 <input type="text"/>
 <input type="text"/>	 <input type="text"/>	 <input type="text"/>
 <input type="text"/>	 <input type="text"/>	 <input type="text"/>

2. Pinte as figuras que compramos por metro:



3. Resolva as continhas:

D	U
7	7
-5	1

D	U
8	6
-4	3

D	U
9	5
-1	4

D	U
6	1
-5	1

D	U
5	9
-5	2

D	U
4	4
-3	2

D	U
5	8
+4	1

D	U
2	6
+4	3

D	U
5	3
+2	2

D	U
9	2
+5	2

D	U
5	4
+1	3

D	U
2	5
+8	1