











## Adição por reagrupamento

Quando a soma das parcelas das unidades for maior que 1 dezena, devemos levar a dezena para a casa da dezena e dar o resultado com as unidades que sobraram. Mas não podemos esquecer-nos de somar a dezena que elevamos com as outras dezenas existentes.

Veja a seguir no material dourado e na operação armada.

Centena	Dezena	unidade
		
		
		
 		
5	8	4

**Algoritmo da Adição**

C	D	U
	1	
2	3	9
3	4	5
5	8	4

1- Agora resolva as operações. O círculo em cima da operação é para você lembrar da dezena que você deve reagrupar e somar.

○ $\begin{array}{r} 37 \\ + 25 \\ \hline \end{array}$	○ $\begin{array}{r} 46 \\ + 34 \\ \hline \end{array}$	○ $\begin{array}{r} 19 \\ + 17 \\ \hline \end{array}$	○ $\begin{array}{r} 35 \\ + 19 \\ \hline \end{array}$	○ $\begin{array}{r} 64 \\ + 18 \\ \hline \end{array}$
○ $\begin{array}{r} 49 \\ + 11 \\ \hline \end{array}$	○ $\begin{array}{r} 15 \\ + 36 \\ \hline \end{array}$	○ $\begin{array}{r} 85 \\ + 15 \\ \hline \end{array}$	○ $\begin{array}{r} 44 \\ + 16 \\ \hline \end{array}$	○ $\begin{array}{r} 27 \\ + 13 \\ \hline \end{array}$
○ $\begin{array}{r} 28 \\ + 02 \\ \hline \end{array}$	○ $\begin{array}{r} 45 \\ + 09 \\ \hline \end{array}$	○ $\begin{array}{r} 75 \\ + 16 \\ \hline \end{array}$	○ $\begin{array}{r} 18 \\ + 17 \\ \hline \end{array}$	○ $\begin{array}{r} 45 \\ + 45 \\ \hline \end{array}$

2- Resolva e coloque os termos de cada operação:

$$\begin{array}{r} 34 \\ + 27 \\ \hline \end{array} \quad \begin{array}{l} \text{---} \\ \text{---} \\ \text{---} \end{array}$$

$$\begin{array}{r} 143 \\ - 42 \\ \hline \end{array} \quad \begin{array}{l} \text{---} \\ \text{---} \\ \text{---} \end{array}$$