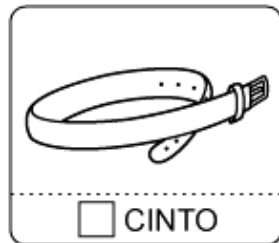




Aluno (a):

Nº


1. Marque um x e pinte o que compramos por **litro**:



2. Para medir, usamos o metro. Marque com o lápis vermelho o que podemos comprar por **metro**.



3. Agora, pegue o seu lápis com a cor preferida! Pinte os círculos dos produtos que podem ser comprados a **quilo**.



frutas

cebola

carne

batata

fitas

refrigerante

leite

sabão

peixe

suco