

CONTAGEM DO TEMPO

O tempo perguntou pro tempo
qual é o tempo que o tempo tem.
O tempo respondeu pro tempo
que não tem tempo
pra dizer pro tempo
que o tempo do tempo
é o tempo que o tempo tem.
(Domínio público)

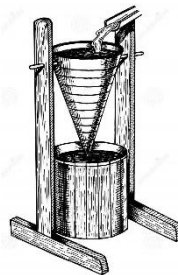


Antes não havia nada que conseguisse medir o tempo.

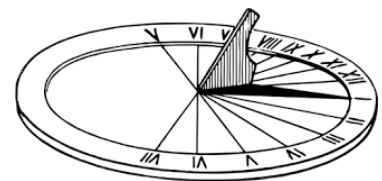
Mas as pessoas precisavam saber se um acontecimento foi antes ou depois de outro. Foi quando as invenções começaram. Inventaram-se relógios e calendários. Existiram vários tipos de relógio de areia ou ampulheta, o relógio de água ou clepsidra, o relógio solar e o relógio mecânico. E hoje temos o relógio digital.



AMPULHETA



CLEPSIDRA



SOLAR



MECÂNICO



DIGITAL

Com os relógios, podemos entender o que são as horas, os minutos e os segundos. Com os calendários, podemos entender o que são os dias, as semanas, os meses e os anos.


O tempo pode ser marcado ou contado. Contamos o tempo, por exemplo, por ano, semana, dias, meses, horas, minutos.

O ano tem 365 dias ou 52 semanas ou 12 meses.

Os dias tem 24 horas, sendo divididos em dois períodos

de 12 horas cada. E cada hora tem 60 minutos.

O ponteiro menor dos relógios marca as horas e o maior, os minutos.



1. Ouça a leitura de cada alternativa e marque um X naquelas que correspondem as possibilidades de marcação e contagem do tempo:

() ANO

() LÁPIS

() HORAS

() CADERNO

() DIAS

() MINUTOS

() SEMANA

() MESES

() CANETA

2. Faça um desenho de um objeto que marca o tempo em horas: