


1- Decomponha os números:

- a) 2 3 5 6
- unidades
  - dezenas
  - centenas
  - unidades de milhar
- b) 5 6 2 3
- unidades
  - dezenas
  - centenas
  - unidades de milhar




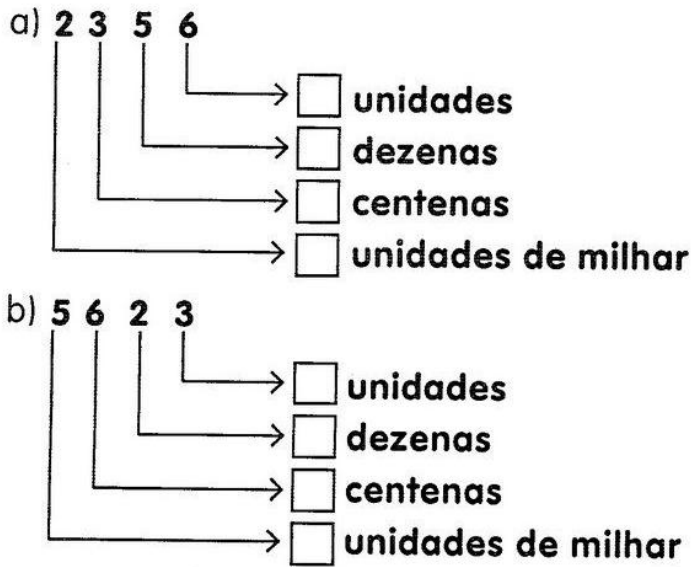
2- Agora represente com barras lembrando o material dourado:

7 3 1 8			
U.M	C	D	U

5 4 2 6			
U.M	C	D	U

9 5 7 0			
U.M	C	D	U

3- Decomponha os números em unidades, dezenas, centenas e unidades de milhar



4- Represente, no quadro posicional, os números em destaque.

7 318			
U.M	C	D	U

5 426			
U.M	C	D	U

9 570			
U.M	C	D	U

5- Veja o número 7 777 e responda.

- a) Quantas dezenas tem esse número? \_\_\_\_\_
- b) Que algarismo representa a centena? \_\_\_\_\_
- c) Quantas unidades de milhar tem o número? \_\_\_\_\_
- d) Que algarismo representa a unidade de milhar? \_\_\_\_\_