
























Aluno (a):

Nº

1. Dona Mariquinha está fazendo uma liquidação na sua loja e colocou vários produtos em promoção. Pinte as notas que você precisa para fazer as compras a seguir:

 <p>R\$ 85,00</p>	     
<p>R\$ 17,00</p> 	    
<p>R\$ 35,00</p> 	   
<p>R\$ 7,00</p> 	  

2. Observe a quantia de cada criança e responda as questões abaixo:



SÉRGIO



PAULA



HUGO

Qual criança tem mais dinheiro? \_\_\_\_\_

Qual tem menos? \_\_\_\_\_

Quanto Paula tem? \_\_\_\_\_

Quanto Sérgio tem a mais que Paula? \_\_\_\_\_

Quanto têm os três meninos juntos? \_\_\_\_\_

O que você compraria se tivesse o dinheiro de Hugo?

\_\_\_\_\_

\_\_\_\_\_