



# EXERCÍCIOS


OPERAÇÕES COM NÚMEROS DECIMAIS

PROFESSOR RAÍKY


- 
- ▶ Qual é o resultado da expressão numérica abaixo?
  - ▶  $41,32 + 56,4 - 81,932 + 5$



Qual é a área de um retângulo cuja largura mede 23,32 m e o comprimento mede 52,25 m?



Uma empresa utiliza um índice de massa corporal inventado por ela própria, no qual divide por dois a soma entre altura e peso dos funcionários. Qual é o índice de massa corporal de Rhuan, sabendo que sua altura é 1,78 m e seu peso é 72,3 kg?



Em um feirão, Juarez aproveitou as promoções e comprou sete agendas, que custaram R\$ 1,32; 4 canetas, que custaram R\$ 0,26; e 45 lapiseiras a R\$ 1,22. Qual é o troco de Juarez, sabendo que ele levou apenas uma nota de R\$ 100,00?