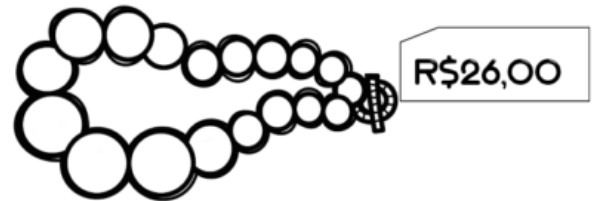


1- Observe e calcule com adição e depois com subtração.

a) Quanto papai pagará se comprar dois colares para a mamãe?



D	U

b) Se papai pagar um colar com uma cédula de 50 reais, quanto receberá de troco?



D	U

Lembre-se que para saber o troco você precisa pegar o valor de dinheiro que você tem e diminuir do valor do objeto que você deseja comprar.

2- Agora calcule:



 URSO
Valor: R\$ 12,00
Pagou 
Troco: _____

 Valor: R\$ 7,00
Pagou 
Troco: _____

 Valor: R\$ 4,00
Pagou 
Troco: _____

 Valor: R\$ 23,00
Pagou 
Troco: _____

 Valor: R\$ 17,00
Pagou 
Troco: _____

 Valor: R\$ 3,00
Pagou 
Troco: _____

 Valor: R\$ 38,00
Pagou 
Troco: _____

 Valor: R\$ 14,00
Pagou 
Troco: _____

DESAFIO MATEMÁTICO

Helena comprou uma boneca e deu uma nota de 50 reais para pagar. Quanto ela recebeu de troco?



Agora faça o mesmo completando o quadro abaixo:

Você comprou	Deu em dinheiro	Recebeu de troco
 <p>12 reais</p>	 <p>20 reais</p>	-----
 <p>35 reais</p>	 <p>50 reais</p>	-----
 <p>8 reais</p>	 <p>10 reais</p>	-----
 <p>20 reais</p>	 <p>50 reais</p>	-----