

Aluno (a): \_\_\_\_\_

Nº \_\_\_\_\_

1- Observe as cédulas e moedas abaixo e escreva o valor de cada uma:



\_\_\_\_\_



\_\_\_\_\_



\_\_\_\_\_






\_\_\_\_\_



2- Veja o valor dos brinquedos e complete a tabela:





PRODUTO	VALOR
BOLA	
BONECA	
CARRINHO	
PETECA	
PIÃO	

3- Calcule o valor dos brinquedos juntos:

 +  +   
\_\_\_\_\_ + \_\_\_\_\_ + \_\_\_\_\_ = \_\_\_\_\_

 +   
\_\_\_\_\_ + \_\_\_\_\_ = \_\_\_\_\_

 +   
\_\_\_\_\_ + \_\_\_\_\_ = \_\_\_\_\_

4- Agora calcule com as cédulas:

 +  +  +  +  +   
\_\_\_\_\_ + \_\_\_\_\_ + \_\_\_\_\_ + \_\_\_\_\_ + \_\_\_\_\_ + \_\_\_\_\_ = \_\_\_\_\_

 +  +   
\_\_\_\_\_ + \_\_\_\_\_ + \_\_\_\_\_ = \_\_\_\_\_