

Aluno (a):

Nº

Para você recordar:



CÍRCULO



QUADRADO



TRIÂNGULO



RETÂNGULO



PENTÁGONO



LOSANGO

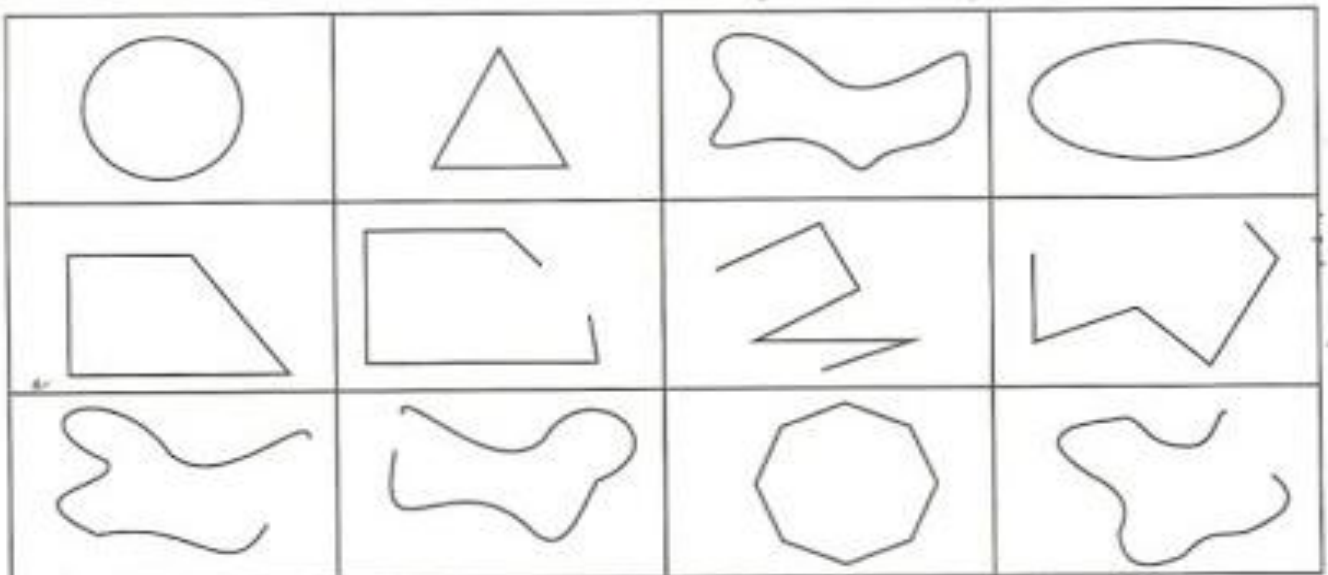


HEXÁGONO

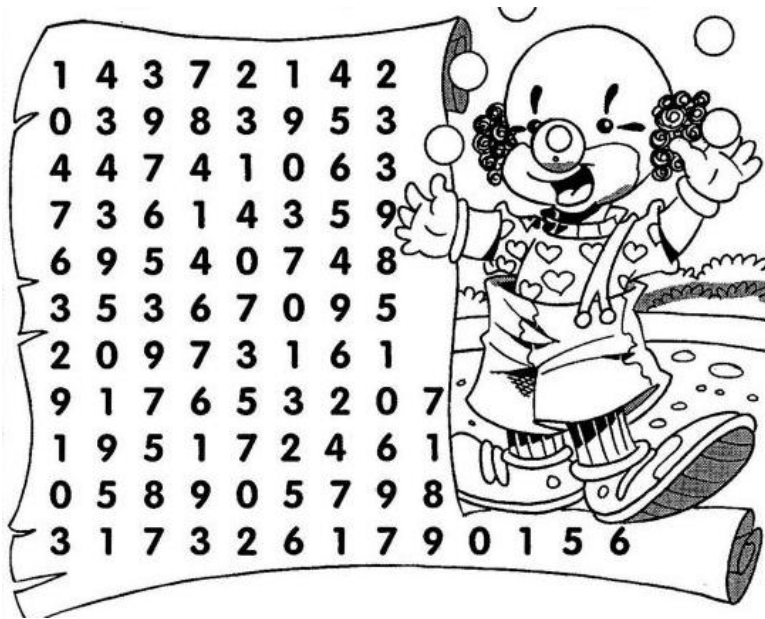


TRAPÉZIO

- 1- Pinte de azul as linhas abertas ou fechadas que possuem linha reta e de amarelo as arredondadas, circulares:



2- Ache os números no anagrama compondo os numerais abaixo.



- a) 1 centena, 5 dezenas e 6 unidades= _____
- b) 1 centena, 0 dezena e 4 unidades= _____
- c) 1 centena, 4 dezenas e 0 unidades= _____
- d) 1 centena, 9 dezenas e 5 unidades= _____
- e) 1 centena, 8 dezenas e 9 unidades= _____
- f) 2 centenas, 3 dezenas e 3 unidades= _____
- g) 3 centenas, 7 dezenas e 2 unidades= _____
- h) 1 centena, 6 dezenas e 1 unidade= _____
- i) 2 centenas, 0 dezena e 9 unidades= _____
- j) 3 centenas, 1 dezena e 7 unidades= _____

3- Arme e efetue:

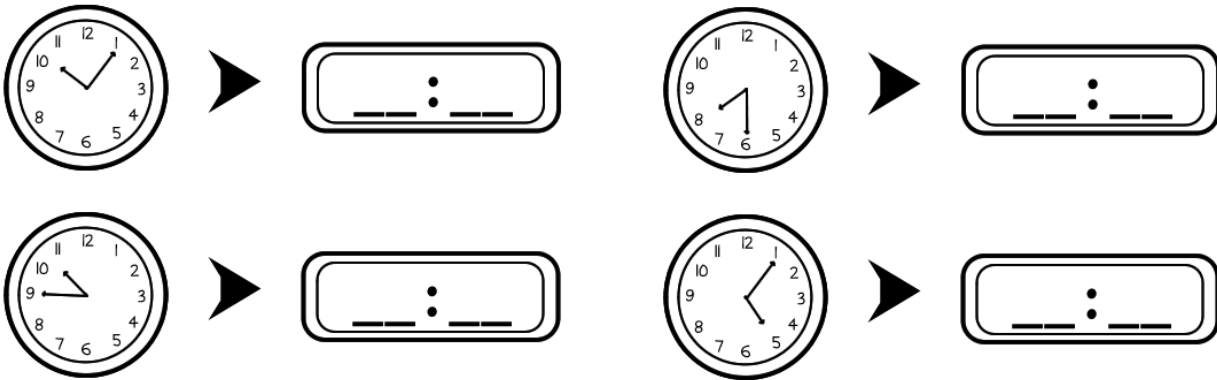
$$235 + 333 =$$

$$43 + 12 =$$


$$654 - 444 =$$

$$753 - 241 =$$

4- Escreva as horas que os relógios estão marcando:



5- Observe o dinheiro que Tarcísio e Cida ganharam.



Responda:

Quanto tem Tarcísio?

Quanto tem Cida?

Juntos, quanto eles têm?

Quem tem a maior quantidade?

Quanto falta a cada um para ter a mesma quantidade?