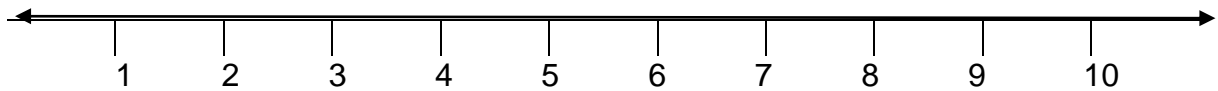


### TRABALHANDO A RETA NUMÉRICA

1. Faça o cálculo e represente na reta numérica:

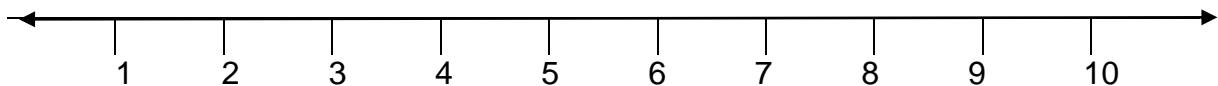
- a) Tita foi a feira e comprou 4 laranjas e 6 bananas. Quantas frutas Tita comprou?

$$4 + 6 = \underline{\hspace{2cm}}$$



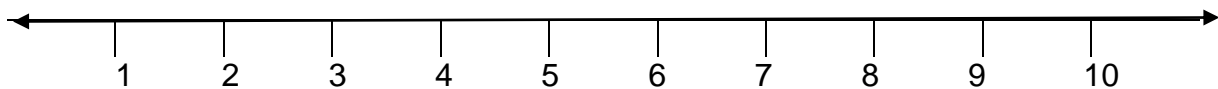
- b) Meninos gostam de bola e Célio tem 7 bolas. No bairro onde ele mora, emprestou 3 bolas aos seus amigos. Célio ficou com quantas bolas?

$$7 - 3 = \underline{\hspace{2cm}}$$



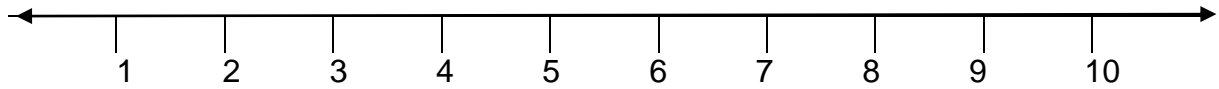
- c) As cegonhas trabalharam muito hoje. A cegonha Vicente, levou 3 bebês aos seus pais e a cegonha Celeste mais 5 bebês. Quantos bebês as cegonhas levaram aos pais hoje?

$$3 + 5 = \underline{\hspace{2cm}}$$



d) Jurema é a coruja mais sabida. Tem uma biblioteca em sua casa e gosta muito da leitura. Separou 5 livros para emprestar aos animais da selva, emprestou somente 3. Quantos livros ainda restaram?

$$5 - 3 = \underline{\quad\quad}$$



2. Resolva as continhas de adição e subtração. Atenção aos sinais! Não se esqueça de começar a resolver às continhas, sempre pela unidade.

D	U
7	7
- 5	1

D	U
8	6
- 4	3

D	U
9	5
- 1	4

D	U
6	1
- 5	1

D	U
5	9
- 5	2

D	U
4	4
- 3	2

D	U
5	8
+ 4	1

D	U
2	6
+ 4	3

D	U
5	3
+ 2	2

D	U
2	2
+ 5	2

D	U
5	4
+ 1	3

D	U
1	5
+ 7	1