

FORMAS GEOMÉTRICAS PLANAS

Depois de assistir a História do Tangran, resolva os exercícios
HISTÓRIA DO TANGRAN - <https://youtu.be/xhV3LO2JEhc>



CÍRCULO



QUADRADO



TRIÂNGULO



RETÂNGULO



PENTÁGONO



LOSANGO


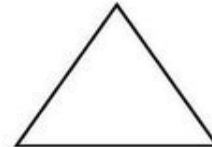
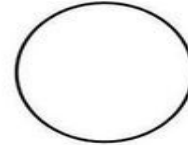


HEXÁGONO



TRAPÉZIO


1- Ligue os objetos do dia a dia as formas geométricas correspondentes:



2- Complete:

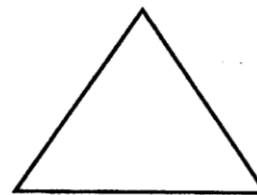
QUEM SOU EU?

⇒ **TENHO QUATRO LADOS IGUAIS.
SOU SEU AMIGO.
PODE-SE FAZER VÁRIOS DESENHOS
COMIGO.**
SOU O



QUADRADO


⇒ **SOU LEGAL PARA BRINCAR.
TENHO TRÊS LADOS.
VOCÊ QUER ME DESENHAR?**
SOU O



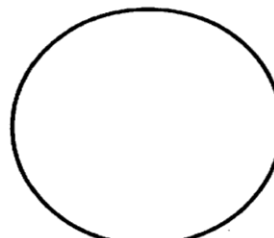
TRIÂNGULO

⇒ **SOU REDONDO COMO BOLA.
NÃO ME CONFUNDA COM MOLA**
SOU O

⇒ **SOU ASSIM:
DOIS LADOS PEQUENOS,
E DOIS MAIORES.
FAÇA UM X EM MIM:**




RETÂNGULO



CÍRCULO

3- Observe, recorte e monte:



Recorte o tangran da próxima página e escolha um desenho e monte aqui.

