

Aluno (a):

Nº

1- Ajude os bichinhos e resolva as operações:


(Adição)

$\begin{array}{r} +12 \\ +15 \\ \hline \square \end{array}$	$\begin{array}{r} +32 \\ +27 \\ \hline \square \end{array}$	$\begin{array}{r} +13 \\ +7 \\ \hline \square \end{array}$	$\begin{array}{r} +28 \\ +12 \\ \hline \square \end{array}$
$\begin{array}{r} +59 \\ +31 \\ \hline \square \end{array}$	$\begin{array}{r} +17 \\ +42 \\ \hline \square \end{array}$	$\begin{array}{r} +23 \\ +9 \\ \hline \square \end{array}$	$\begin{array}{r} +11 \\ +11 \\ \hline \square \end{array}$



(Subtração)

$\begin{array}{r} -95 \\ -15 \\ \hline \square \end{array}$	$\begin{array}{r} -18 \\ -12 \\ \hline \square \end{array}$	$\begin{array}{r} -32 \\ -11 \\ \hline \square \end{array}$	$\begin{array}{r} -45 \\ -23 \\ \hline \square \end{array}$	$\begin{array}{r} -78 \\ -18 \\ \hline \square \end{array}$
$\begin{array}{r} -63 \\ -42 \\ \hline \square \end{array}$	$\begin{array}{r} -57 \\ -34 \\ \hline \square \end{array}$	$\begin{array}{r} -84 \\ -53 \\ \hline \square \end{array}$		



2- Complete o calendário colocando os numerais referente ao mês que estamos, nos dias da semana certos e depois responda


DOMINGO	SEGUNDA-FEIRA	TERÇA-FEIRA	QUARTA-FEIRA	QUINTA-FEIRA	SEXTA-FEIRA	SÁBADO

- a) Que dia do mês é hoje? _____
- b) Que dia da semana é hoje? _____
- c) Quantos dias tem esse mês? _____
- d) Qual é o ano? _____
- e) Que dia comemoramos o dia do Índio? _____
- f) Quais os dias da semana não temos aula? _____

- g) Quais os meses do ano? _____

3- Ache o número que falta:

$7 - \square = 3$	$\square - 7 = 2$
$6 - 4 = \square$	$9 - 2 = \square$
$\square + 3 = 8$	$2 + \square = 7$
$5 + 4 = \square$	$3 - \square = 3$
$\square - 2 = 6$	$\square - 8 = 0$
$\square + 3 = 9$	$7 - 5 = \square$
$\square - 2 = 7$	$9 - 3 = \square$




4-Resolva os probleminhas:


CHAPEUZINHO VERMELHO

A MAMÃE DE CHAPEUZINHO PEDIU PARA QUE ELA FOSSE LEVAR OS DOCES PARA VOVÓ.


VEJA A HORA QUE ELA SAIU DE CASA E ANOTE ABAIXO:



VEJA A HORA QUE ELA PASSOU PELA FLORESTA E ANOTE ABAIXO:




VEJA A HORA QUE CHAPEUZINHO CHEGOU NA CASA DA VOVÓ E ANOTE ABAIXO:



QUANTO TEMPO ELA LEVOU PARA FAZER TODO PERCURSO?

O LOBO TEVE QUE PASSAR POR VÁRIAS ÁRVORES ESCONDENDO-SE DA CHAPEUZINHO ATÉ CHEGAR A CASA DA VOVÓ. AJUDE O CAÇADOR A CONTAR QUANTAS ÁRVORES O LOBO PASSOU ATÉ CHEGAR LÁ:



ESCRITA POR EXTENSO

O LOBO TEVE QUE VESTIR A CAMISOLA DA VOVÓ PARA ENGANAR CHAPEUZINHO, ELE ACHOU 10 CAMISOLAS DE BOLINHAS E 5 DE ESTRELINHAS. QUANTAS CAMISOLAS A VOVÓ TINHA?

ESCRITA POR EXTENSO