

Hoje vamos recordar o que aprendemos ontem. Medidas de tempo – HORAS

O relógio é utilizado para medir as horas, os minutos e segundos.

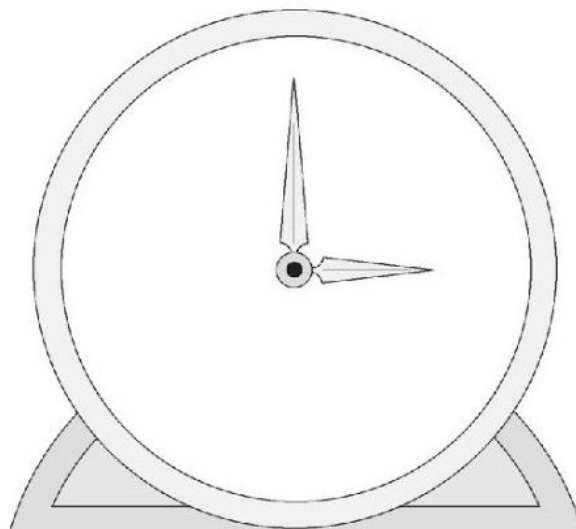


Praticando :

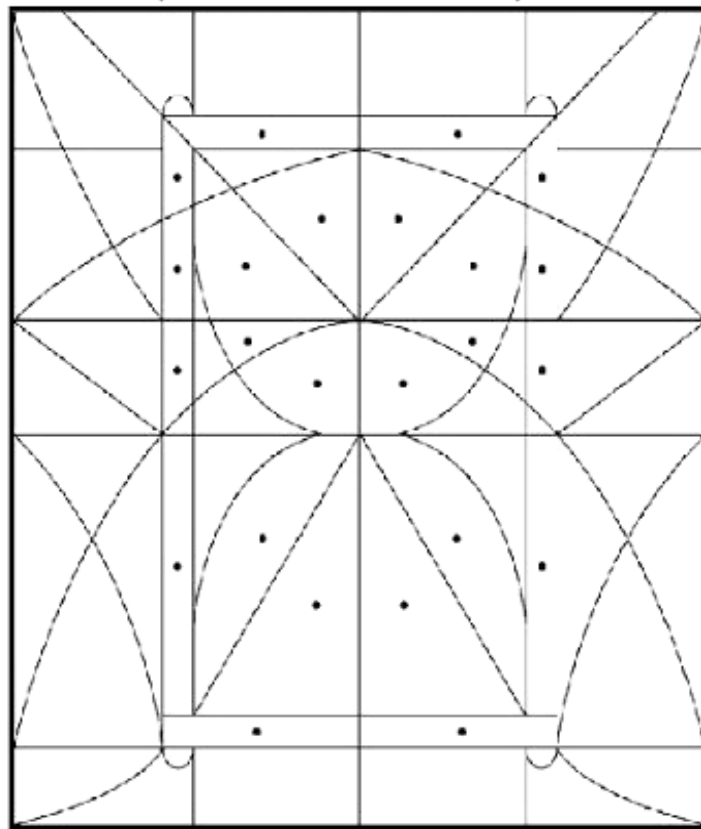
1-Organize a sua rotina e coloque aqui a hora que voce execute as suas atividades.Escreva as horas de maneira certa.

- a) Que hora voce acorda? _____
- b) Tomo café da manhã às _____
- c) Almoça às _____
- d) Dorme às _____

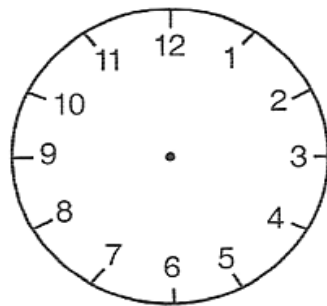
2- Escreva os numeros do relógio no lugar certo.



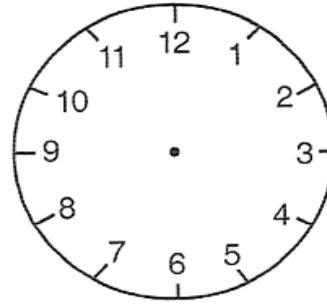
3- Pinte as partes que estão marcadas e descubra qual o tipo de relógio irá aparecer. Depois pesquise sobre o funcionamento deste objeto.



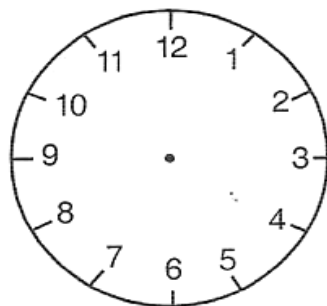
4 – Marque as horas no relógio:



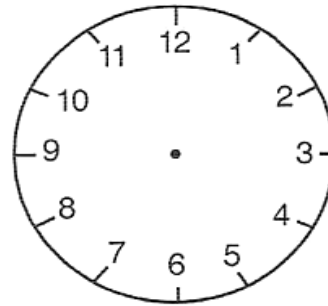
8:00



12:00




3:00



6:00

5- Veja e responda:



Os relógios acima marcam horários importantes para Mariana:

Ela levanta as 6 horas . **Pinte de vermelho**

Sai para escola as 7 horas. **Pinte de azul**

As 9 horas ela vai para o recreio. **Pinte de verde**

6- Que galo lindo! Ele serve de despertador na fazenda:

Para que serve o ponteiro pequeno?

E o ponteiro grande?

Quantos minutos tem uma hora?

