


MEDIDAS DE TEMPO

A hora e o minuto

A hora e o minuto são unidades de medidas de tempo marcadas pelo relógio.

Por extenso	Abreviatura
hora	h
minuto	min

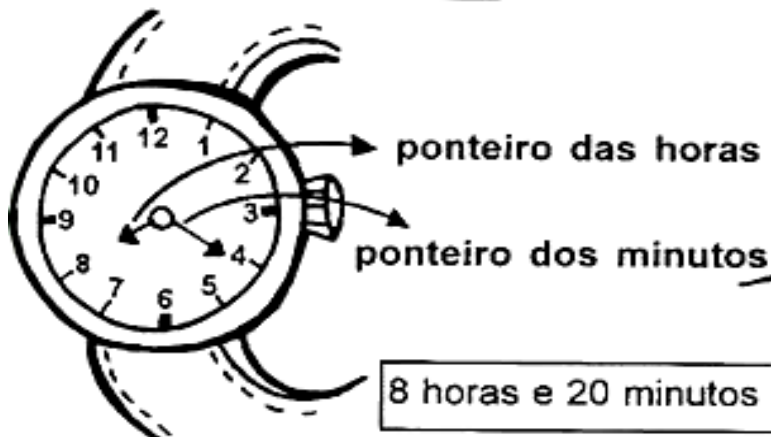


O dia se divide em 24 partes iguais.
Cada parte corresponde a 1 hora.


A hora se divide em 60 partes iguais.
Cada parte corresponde a 1 minuto.


O minuto se divide em 60 partes iguais.
Cada parte corresponde a 1 segundo.

Relógio de ponteiro



Relógio digital





◆ O relógio está marcando _____ horas.

◆ O ponteiro pequeno está apontando para o número _____.

◆ O ponteiro grande está apontando para o número _____.


1- Observando o relógio acima responda:

- Os números vão de 1 até _____.
- Quantos ponteiros? _____.
- Como são os ponteiros? _____.
- O ponteiro pequeno marca as _____.
- O ponteiro grande marca os _____.


2- Marque nos relógios as horas exatas de sua agenda diária.

 <p>Levanto</p> 	 <p>Durmo</p> 
 <p>Vou para escola</p> 	 <p>Almoço</p> 

3 Escreva de forma correta as horas que os relógios estão marcando:



4- Agora marque nos relógios analógicos a hora que os relógios digitais estão marcando.



5-Recorte e monte o relógio e brinque com sua família:

