


CALCULE OS PONTOS

1- Observe os pontos que cada criança tem e calcule



Pontuação
de Hércules

$$\begin{array}{r} \square \\ + \square \\ \hline \square \end{array}$$

___ pontos.

Pontuação
de Tina

$$\begin{array}{r} \square \\ + \square \\ \hline \square \end{array}$$

___ pontos.

Pontuação
de Trovão

$$\begin{array}{r} \square \\ + \square \\ \hline \square \end{array}$$

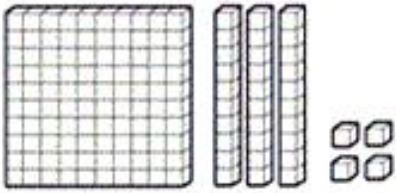
___ pontos.

Pontuação
de Nina

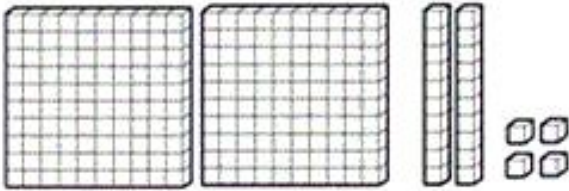
$$\begin{array}{r} \square \\ + \square \\ \hline \square \end{array}$$

___ pontos.

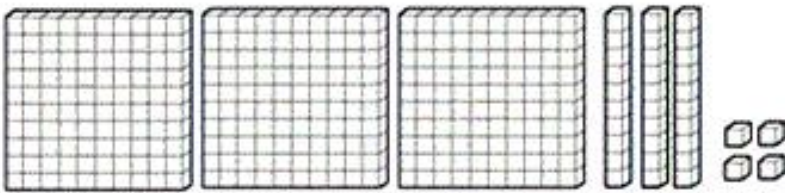
2- Escreva com algarismo as quantidades representadas em cada conjunto de peças do material dourado:



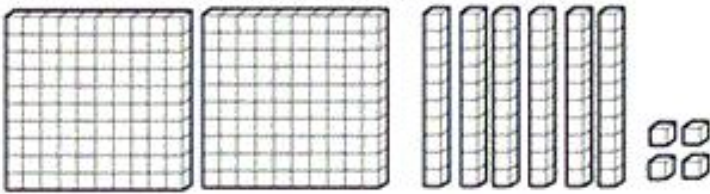
CENTENA, DEZENAS E
 UNIDADES



CENTENA, DEZENAS E
 UNIDADES



CENTENA, DEZENAS E
 UNIDADES



CENTENA, DEZENAS E
 UNIDADES

Ótima semana!
Tia Eleni

