

Aluno (a): _____


Nº _____

Assista ao vídeo (decomposição numérica até 100) <https://youtu.be/N76MmUADIVE>.

Logo após vamos recordar com exercícios a matéria que aprendemos.

1- Componha os números e os encontre no diagrama:



- 1 centena + 5 dezenas + 8 unidades = _____
- 1 centena + 7 dezenas + 5 unidades = _____
- 3 centenas + 6 dezenas + 3 unidades = _____
- 7 dezenas + 4 dezenas + 1 unidades = _____
- 5 centenas + 3 dezenas = 2 unidades = _____
- 2 centenas + 5 dezenas = 4 unidades = _____



2-Coloque o valor posicional:

C D U	C D U	C D U	C D U
C D U	C D U	C D U	C D U
C D U	C D U	C D U	C D U
C D U	C D U	C D U	C D U

2- Escreva por extenso o nome dos números:





1-
2-
3-
4-
5-
6-
7-
8-
9-


10-
20-
30-
40-
50-
60-
70-
80-
90-


100-
200-
300-
400-
500-
600-
700-
800-
900-
1000-


4-Resolva as subtrações:



$\begin{array}{r} 92 \\ -31 \\ \hline \end{array}$



$\begin{array}{r} 57 \\ -12 \\ \hline \end{array}$



$\begin{array}{r} 68 \\ -22 \\ \hline \end{array}$



$\begin{array}{r} 88 \\ -54 \\ \hline \end{array}$



$\begin{array}{r} 38 \\ -13 \\ \hline \end{array}$



$\begin{array}{r} 47 \\ -17 \\ \hline \end{array}$



$\begin{array}{r} 62 \\ -41 \\ \hline \end{array}$


$\begin{array}{r} 99 \\ -78 \\ \hline \end{array}$


$\begin{array}{r} 97 \\ -36 \\ \hline \end{array}$


$\begin{array}{r} 46 \\ -23 \\ \hline \end{array}$


$\begin{array}{r} 68 \\ -54 \\ \hline \end{array}$


$\begin{array}{r} 87 \\ -36 \\ \hline \end{array}$

