


Aluno (a): _____

Nº _____

1. Faça a adição e depois complete:


1-



+ =

PAR OU ÍMPAR?


2-



+ =

PAR OU ÍMPAR?


3-



+ =

PAR OU ÍMPAR?

4-



+ =

PAR OU ÍMPAR?

2. Escreva de 3 em 3, e de 3 até 30:

3. Resolva as operações no QVL com numerais:

- a) $35 + 44 = \underline{\quad}$ b) $10 + 89 = \underline{\quad}$ c) $20 + 34 = \underline{\quad}$ d) $12 + 32 = \underline{\quad}$

D	U

D	U

D	U

D	U

4. Leia, resolva e coloque a resposta completa:

Na casa de Mateus têm 10 laranjeiras, 1 mangueira, 2 limoeiros, 12 aceroleiras e 2 bananeiras.

Quantas árvores tem na casa de Mateus, no total?



Resposta:

5. Coloque o sinal de maior ou menor:

a) 77 _____ 99

b) 54 _____ 32

c) 93 _____ 22

6. Desenhe uma dezena de carros e pinte meia dezena: