


Aluno (a): _____

Nº _____

CRUZADINHA DA MULTIPLICAÇÃO



Complete a cruzadinha com o resultado das multiplicações abaixo:



A – 5 X 3
B – 4 X 6
C – 3 X 4
D – 2 X 8


E – 3 X 3
F – 4 X 9
G – 5 X 8
H – 2 X 3

I – 5 X 9
J – 4 X 8
K – 3 X 6
L – 4 X 7

M – 1 X 5
N – 4 X 4
O – 2 X 4
P – 3 X 2

Q – 5 X 7
R – 4 X 5
S – 2 X 9

DOMINÓ DA MULTIPLICAÇÃO



Complete o jogo de dominó escrevendo os numerais que faltam:

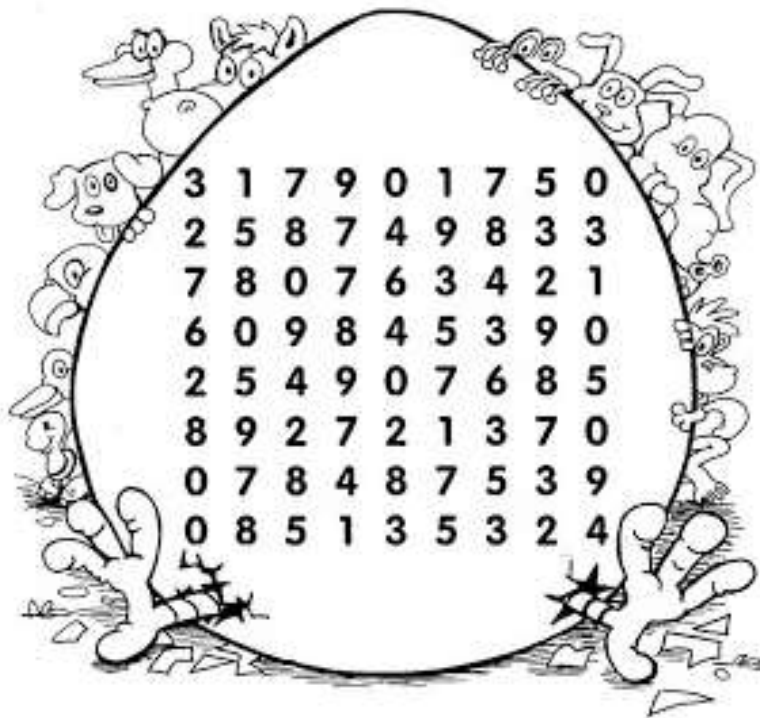
3	4×3		3×9		8×6	
						4×8



	7×6	21				27
						7×7

4×6						
8×7			6	4×9		4

Componha os números, procurando no caça-números o valor referente:



- a) 1 centena + 5 dezenas + 8 unidades= _____
- b) 1 centena + 7 dezenas + 5 unidades= _____
- c) 3 centena + 6 dezenas + 3 unidades= _____
- d) 7 centena + 4 dezenas + 1 unidades= _____
- e) 5 centena + 3 dezenas + 2 unidades= _____
- f) 2 centena + 5 dezenas + 4 unidades= _____