


Aluno (a):

Nº


PROBLEMINHAS

A turma da professora Sheila do 3º ano foi fazer um passeio no Shopping.


1- A professora levou 11 meninas e 12 meninos. Quantos alunos ela levou?



2- No meio do caminho, entraram mais 10 meninas de outra escola. Quantas meninas a professora Sheila levou no passeio?



3- No ônibus há 45 lugares. Quantos lugares ficaram vazios?



4- Agora vamos somar:

D	U	D	U	D	U	D	U
1	5	2	5	5	0	8	6
+	1	+	2	+	3	+	0
	4		0		0		3

5- Pinte de azul os números pares e de vermelho os números ímpares depois respondam:



1	2	3	4	5
6	7	8	9	10
11	12	13	14	15
16	17	18	19	20
21	22	23	24	25
26	27	28	29	30
31	32	33	34	35
36	37	38	39	40
41	42	43	44	45
46	47	48	49	50
51	52	53	54	55

a) Qual foi o maior numeral par que você pintou?

b) Qual foi o menor numeral par que você pintou?