



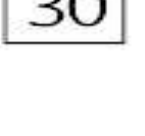



Aluno (a): _____

Nº _____

1. Complete a sequência numérica.

 0							 7
8							 15
 10							
18							 25
 23							30

2. Coloque o número que está entre.

2 _____ 4	15 _____ 17	10 _____ 12	14 _____ 16
20 _____ 22	27 _____ 29	28 _____ 30	6 _____ 8

3. Dê o sucessor e o antecessor.

_____ 13 _____

_____ 20 _____

_____ 26 _____

_____ 1 _____

_____ 22 _____

_____ 27 _____

_____ 15 _____

_____ 9 _____