



MATEMÁTICA

2º ano
Profª. Sheila Veríssimo

Lista:

23

Data: 23 / 02 / 2021

Aluno (a): _____

Nº _____

1- Decomponha no QVL com o material dourado os números:

243

365

678

CENTENA	DEZENA	UNIDADE

2- Escreva por extenso:

123 - _____

16 - _____

35 - _____





3- Dê os vizinhos de:

_____ 43 _____

_____ 99 _____

_____ 79 _____

4- Resolva as adições:

<p>1</p> 	$\begin{array}{r} 4 \\ +1 \\ \hline \end{array}$
<p>2</p> 	$\begin{array}{r} 5 \\ +2 \\ \hline \end{array}$
<p>3</p> 	$\begin{array}{r} 3 \\ +3 \\ \hline \end{array}$
<p>4</p> 	$\begin{array}{r} 1 \\ +3 \\ \hline \end{array}$

5- Escreva de 2 em 2 de 20 até 50:
