

Aluno (a): _____

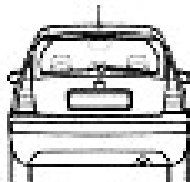

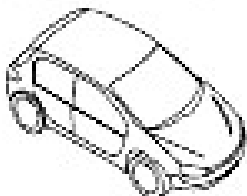
Nº _____

Diferentes pontos de vista

Podemos olhar objetos e coisas de diferentes pontos de visão:

- Visão de cima ou vertical;
- Visão de frente ou frontal;
- Visão de lado ou oblíqua;
- Visão de trás.

Mostre o que você aprendeu ligando as figuras ao ponto de visão corretamente:



**Visão de cima
ou vertical.**

**Visão de frente
ou frontal**

**Visão de lado
ou oblíqua**

Visão de trás