


Aluno (a): _____

Nº _____

Dezena


Conte quantas formiguinhas estão indo para o formigueiro.



São _____ formiguinhas que estão indo ao formigueiro.

Cada formiguinha representa **1(uma) unidade**.
10 (dez) unidades formam **1 (uma) dezena**.

1. Pinte uma dezena de maçãs:



Uma dezena de maçãs corresponde a _____ unidades.

2. Desenhe uma dezena de corações com o lápis de cor vermelho:

Meia dezena

Em cada mão temos cinco dedos. Nas duas mãos temos _____ dedos ou **1 (uma) dezena** de dedos.




Meia dezena é a metade de 10.

A metade de 10 corresponde a _____ unidades.

Meia dezena = _____ unidades.

3. Complete os desenhos para formar meia dezena:



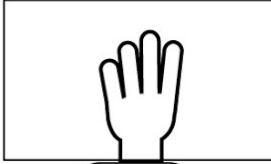








4. Complete com o antecessor e o sucessor dos números:

_____ 2 _____ _____ 9 _____ _____ 4 _____ 6 _____

_____ 3 _____ _____ 5 _____ _____ 8 _____ 1 _____

5. Atenção! Vamos usar os nossos dedinhos para somar. Coloque os números relacionados a cada quadrinho:

 <input type="text"/>	+	 <input type="text"/>	=	 <input type="text"/>
 <input type="text"/>	+	 <input type="text"/>	=	 <input type="text"/>
 <input type="text"/>	+	 <input type="text"/>	=	 <input type="text"/>

Você é o máximo!!!