

ALUNO (A): _____

1º ANO

Ensino Fundamental PROF. REBECA

11 / 12 / 2020

4º Bimestre


QUESTÃO 01

(Valor: 1,0 Pontos)

Leia o trecho do poema abaixo.

O caminho da escola

Vejo tanta coisa
quando vou para a escola...
O céu, o sol, e o mar
passarinhos a cantar. [...]



Próximo da escola,
colegas batendo bola.
Em frente à lanchonete
a turminha do basquete. [...]

Disponível em: <<http://reidamaria.com.br/poesia-caminho-da-escola/>>. Acesso em 09 jan. 2019. (fragmento).


De acordo com o poema, o que a criança vê quando vai de casa para a escola?

- A) Pássaros, lagos e flores.
- B) Pessoas indo trabalhar e ônibus.
- C) Shopping, lojas e igreja.
- D) O céu, o sol, o mar, passarinhos e colegas.

QUESTÃO 02

(Valor: 1,0 Pontos)

Como Vitor vê a bola, ao mudar de posição? Numere as cenas e as frases correspondentes.





- Vitor está vendo a bola do alto, de cima para baixo.
- Vitor está vendo a bola do alto e de lado.
- Vitor está vendo a bola bem em frente a ele.

QUESTÃO 03

(Valor: 1,0 Pontos)

Usando a letra inicial de cada nome das figuras abaixo, descubra como se chama o fenômeno natural de aquecimento térmico da Terra?

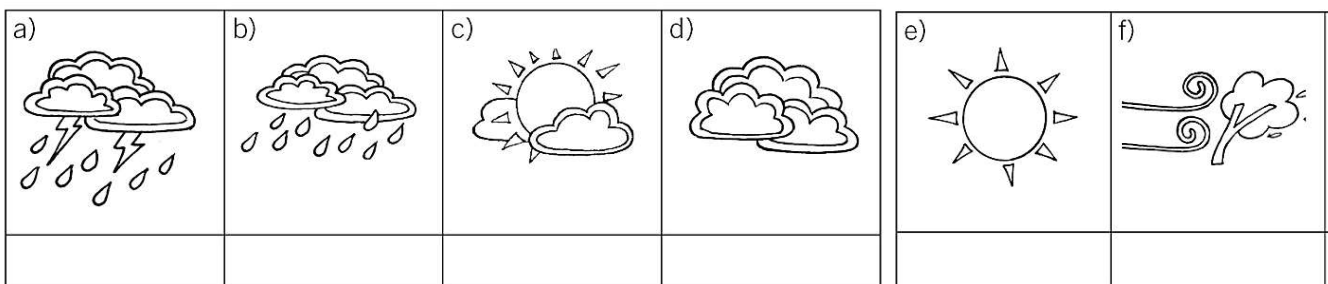


QUESTÃO 04

(Valor: 1,0 Pontos)

Veja a seguir alguns símbolos usados na previsão do tempo. Coloque o número referente a cada símbolo.

1. Tempo ensolarado
2. Tempo sujeito a relâmpago e trovoadas
3. Tempo chuvoso
4. Tempo nublado
5. Tempo parcialmente nublado
6. Tempo sujeito a ventania e tempestade



Clima do Brasil

Clima é o conjunto de variações do tempo em determinada região.

Encontre no caça palavras e faça um círculo nos fatores que determinam o clima de um lugar:

CHUVAS – VENTOS - UMIDADE DO AR - PRESSÃO ATMOSFÉRICA – FRIO - CALOR

X C H U V A S D U B C E R N V E A Y S
A S D F G H J K L Ç P O U Y T R E C V
B U C C A L O R R E A O L Y T U G D A
P O I U Y T R E W Q A S A F G U I E A
P R E S S Ã O * A T M O S F É R I C A
Z X C E S V G T E T N N O F E S S A R
M I B F R I O M N B V C X Z A S E R F
U N I D T Y U V C S A M O I N T B I U
U M I D A D E * D O * A R B E A K I U
A Z Q W E C X T Y B O M I T U R Y A A

Agora escreva o nome de cada região de acordo com os números do mapa:



1. _____
2. _____
3. _____
4. _____
5. _____

QUESTÃO 07

(Valor: 1,0 Pontos)

Relacione as imagens às suas regiões.



Região Norte



Região Nordeste



Região Centro-Oeste



Região Sul

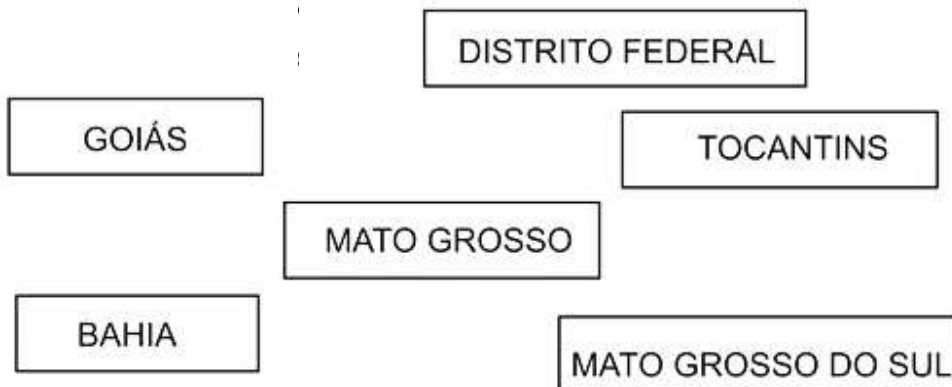


Região Sudeste

QUESTÃO 08

(Valor: 1,0 Pontos)

Quais são os Estados que compõem a Região Centro-Oeste? Pinte-os.



Boa verificação!!!