

ALUNO (A): _____

1º ANO

Ensino Fundamental PROF.REBECA

10 / 12 / 2020


4º Bimestre

QUESTÃO 01

(Valor: 1,0 Pontos)

Na aula de Ciências, a professora Alessandra apresentou aos alunos do 1º ano a imagem a seguir. Alessandra pediu que os alunos identificassem a estrela da imagem, veja:

- a) o planeta que fica mais distante do Sol.
- b) a estrela que ilumina muitos outros astros.
- c) o planeta que gira ao redor da Terra.
- d) a Terra que é o planeta onde existe vida.



QUESTÃO 02

(Valor: 1,0 Pontos)

Os alunos do 1º ano fizeram um belo mural sobre os astros.

Veja uma das imagens apresentadas.



www.shutterstock.com · 391212613

Qual é a legenda adequada para essa imagem?

- a) Céu noturno com muitos pontos luminosos.
- b) Céu noturno com lua cheia e poucas nuvens.
- c) Céu diurno com nuvens e Sol iluminando o ambiente.
- d) Céu diurno com nuvens indicando chuva.


Leia o texto a seguir e responda:

A importância do Sol

O sol é uma estrela de quinta grandeza e é a estrela mais próxima de nós. Sem ele não existiria vida na Terra.

Todos os seres vivos, necessitam da luz e do calor do Sol para sobreviver. Os raios solares contêm a vitamina D, que é muito importante para nós.

Com o Sol, as plantas realizam a fotossíntese e assim conseguem viver. Os animais também necessitam do Sol para sua sobrevivência.



caninhodatiage.ssy

O sol é:

- a) um planeta b) uma estrela c) um corpo celeste d) um asteróide

QUESTÃO 04

(Valor: 1,0 Pontos)

Girassol é o nome de uma planta. O nome científico do girassol é *Helianthus annuus*, cujo significado é “flor do sol”. É uma planta originária da América do Norte e possui a particularidade de ser heliotrópica, ou seja, gira o caule sempre posicionando a flor na direção do sol.






A luz solar é necessária para as plantas produzirem o próprio alimento e para o desenvolvimento delas. As plantas crescem em direção à:

- a) lua c) estrela
b) galáxia d) luz solar

QUESTÃO 05

(Valor: 1,0 Pontos)

Alguns animais possuem hábitos diurnos e outros possuem hábitos noturnos. Circule os animais que possuem hábitos noturnos e pinte os animais de hábitos diurnos.



QUESTÃO 06

(Valor: 1,0 Pontos)


A luz solar provoca as sombras de objetos e seres vivos. A sombra aparece do lado oposto à posição do Sol. Em cada período do dia, as sombras estão em posições diferentes. Relacione as crianças a suas respectivas sombras.



QUESTÃO 07


(Valor: 1,0 Pontos)

Encontre no caça palavras os nomes de alguns animais ameaçados de extinção.



- TAMANDUÁ
- ARIRANHA
- ARARA
- JACARÉ
- GUARÁ


T	A	M	A	N	D	U	A	Q	W	M
Q	C	W	Q	T	C	L	D	S	J	J
V	P	R	R	G	O	E	F	R	Y	A
G	M	R	R	W	N	O	T	O	J	C
U	H	I	A	R	I	R	A	N	H	A
A	Q	P	C	W	P	T	V	A	M	R
R	H	Q	A	R	A	R	A	V	S	E
A	I	L	S	T	O	H	Y	B	R	Z



QUESTÃO 08

(Valor: 1,0 Pontos)

Pinte as estrelas de cinco pontas, ordene as letras e descubra onde o nosso planeta se localiza.



--	--	--	--	--	--	--	--	--	--	--	--	--

Boa avaliação!!!