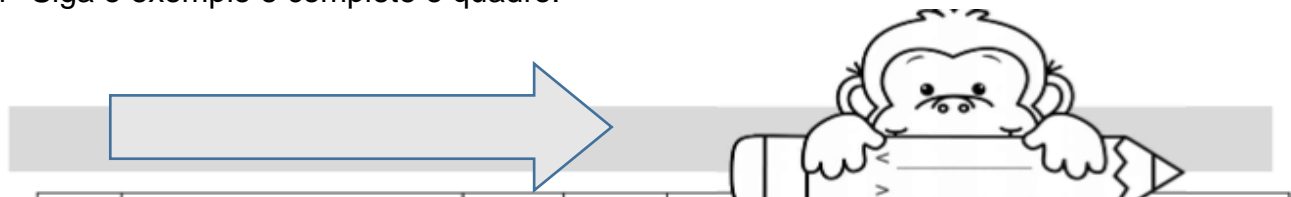


Após realizar atividades da lista responda os exercícios das páginas 98 a 102.

1- Siga o exemplo e complete o quadro:



	Em palavras	D	U	antecessor	sucessor	decomposição
11	onze	1	1	10	12	10 + 2
24						
78						
63						
96						
45						

2-Agora com atenção complete o probleminha. Pense e responda:

- No cinema da cidade de Salvador cabem 548 pessoas

5 4 8 → _____ unidades
 → _____ dezenas ou _____ unidades
 → _____ centenas ou _____ dezenas ou _____ unidades

- Na escola João Fernandes foram matriculados 1.237 alunos.

1 2 3 7 → _____ unidades
 → _____ dezenas ou _____ unidades
 → _____ centenas ou _____ dezenas ou _____ unidades
 → _____ unidade de milhar ou _____ centenas ou
 _____ dezenas ou _____ unidades




3-Escreva por extenso os numerais:


273 - _____


498 - _____

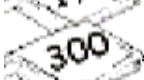
925 - _____


4- Decomponha:

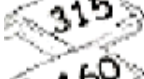
 $\rightarrow 100 + 80 + 9 \rightarrow 1 \text{ centena} - 8 \text{ dezenas e } 9 \text{ unidades}$


 _____

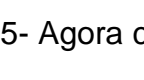
 _____

 _____

 _____

 _____

 _____

 _____

5- Agora componha os numerais:

* 4 centenas + 5 dezenas + 3 unidades = $400 + 50 + 3 =$ 453

* 2 centenas + 9 dezenas + 9 unidades = _____

* 5 centenas + 8 dezenas + 4 unidades = _____

* 3 centenas + 3 dezenas + 1 unidade = _____

* 2 centenas + 7 dezenas + 7 unidades = _____

* 3 centenas + 2 dezenas + 5 unidades = _____

Não se esqueça em...



NA TAREFA!